

親子さやま検定 2023

(大人用)

別冊 過去・例題集

さやま検定に出題された問題・他



池まつり2016 狭山検定表彰式



桜まつり2016 さやりん と もずやん



桜まつり(春) ラバーダック



桜まつり(冬) イルミネーション



地車祭り2016

「最優秀賞」
豪華賞品



「親子さやま検定 2023」の対策用として、過去のさやま検定に出題された問題を取り上げました。よく似た内容の問題がありますが、異なる年度で出題されたものです。また、今回、新規に設問したものもあります。チャレンジしてみてください。

なお、文中の「本市」は大阪狭山市のことです。また、解答は20～22ページにあります。

※ 実際の検定では類似の問題が多く出題されます。

問 1. 本市の市章は、どれですか。

A.



B.



C.



問 2. 本市を含め、「狭山」「佐山」など「さやま」の地名は、全国に何か所ありますか。

A. 6か所

B. 10か所

C. 14か所

問 3. 本市の面積は、何平方キロメートル (km²) ですか。

A. 11.92 km²

B. 11.86 km²

C. 11.69 km²

問 4. 本市の木と花の組み合わせで、正しいものはどれですか。

A. うめ・つつじ

B. さくら・さざんか

C. さくら・つつじ

問 5. 本市と境界線で接していない市は、どれですか。

A. 堺市

B. 和泉市

C. 富田林市

問 6. 本市には南海電気鉄道高野線の駅が3つありますが、市内にない駅はどれですか。

A. 金剛駅

B. 狭山駅

C. 滝谷駅

問 7. 狭山池から流れ出る西除川と東除川は、北流したのち何という川に注いでいますか。

A. 石川

B. 大和川

C. 平野川

問 8. 「狭山」の地名は、東にある丘陵と西の陶器山山系にはさまれた、ながめの良い地として名づけられたといわれています。東にある丘陵とは、どれですか。

A. 富田林河南丘陵

B. 金剛葛城丘陵

C. 羽曳野丘陵

問 9. 本市の海拔は、どれですか。

A. 最高165m、最低52m

B. 最高145m、最低42m

C. 最高125m、最低32m

問 10. 『大阪狭山市の市章は、全体で「さやま」の「さ」、上部の山形で「山」としています。下の円に、「市民がみんな仲良く」という願いを込め、全体の感じとして、() が羽ばたくように未来に向かって大きく進む大阪狭山市の姿を現しています。』本市の市章についての、上の文中の()に入る言葉は、どれですか。

A. 大鵬 (タイホウ)

B. 雀 (スズメ)

C. 白鳥 (ハクチョウ)

問 11. 平成29年(2017)は、本市が「市」になって何年目にあたりますか。

A. 20年目

B. 30年目

C. 40年目

問 12. 奈良時代には、現在の本市あたりは、何と呼ばれていましたか。

A. 丹比郷 (タジヒゴウ)

B. 狭山郷 (サヤマゴウ)

C. 古市郷 (フルイチゴウ)

問 13. 「狭山池」の名前が初めて登場する書物はどれですか。

A. 古事記 (コジキ)

B. 日本書紀 (ニホシヨキ)

C. 続日本紀 (シヨクニホジキ)

問 14. 大阪府立狭山池博物館の設計者は、だれですか。

A. 野老朝雄 (ノロアサオ)




B. 隈研吾 (クマケンゴ)

C. 安藤忠雄 (アントウチカオ)

問 15. 現在、狭山池の湛水面積は、およそ何ヘクタール (ha) ですか。

A. 36ha B. 46ha C. 56ha

問 16. 本市が全国「水の郷百選」に認定されたのは、何年ですか。
A. 昭和 58 年 (1983) B. 平成 8 年 (1996) C. 平成 18 年 (2006)

問 17. 江戸時代に狭山を治めた狭山藩北条氏の家紋は、どれですか。
A. 六文銭  B. 三つ柏  C. 三つ鱗 

問 18. 狭山ニュータウンの造成工事が着工されたのは、何年ですか。
A. 昭和 32 年 (1983) B. 昭和 42 年 (1967) C. 昭和 52 年 (1977)

問 19. 大阪狭山市駅から西方の報恩寺へ続く道の両側の街並みは、片桐且元が狭山池の修理後に狭山池の樋役人を置くために造られました。そこは何と呼ばれていましたか。
A. 新宿 (シジユク) B. 並松 (ナマツ) C. お台場 (オダイバ)

問 20. 平安時代から戦国時代まで、現在の大阪狭山市域は狭山荘と呼ばれる荘園でしたが、どの寺の荘園でしたか。
A. 東大寺 B. 興福寺 C. 高野山金剛峰寺

問 21. 南北朝時代には狭山池のすぐ北側に城があり、このあたりで鎌倉幕府軍と楠木軍の間で激戦がくり広げられました。この城は何と呼ばれていましたか。
A. 野田城 B. 半田城 C. 池尻城

問 22. 高野鉄道 (現南海高野線) が狭山駅～大小路駅 (現堺東駅) 間で開通したのは、いつですか。
A. 明治 31 年 (1898) B. 大正 8 年 (1919) C. 昭和元年 (1926)

問 23. 昭和 6 年 (1931) に、二つの村が合併して南河内郡狭山村ができました。それらは、次のどれですか。なお、狭山村は後に狭山町、さらには現在の大阪狭山市となります。
A. 半田村と三都村 B. 狭山村と三都村 C. 半田村と今熊村

問 24. 昭和 13 年 (1938) に開園し、平成 12 年 (2000) に閉園した遊園地「さやま遊園」の跡地の一部には現在、防災公園ができています。この公園の名前はどれですか。
A. さやりん公園 B. さやか公園 C. さやま公園

問 25. 本市で唯一見つかった古墳の名前は何かですか。
A. 狐 (キツネ) 塚 B. 狸 (タヌキ) 塚 C. 鼬 (イタチ) 塚

問 26. 本市から和泉市にかけての泉北丘陵の一带では、堺市の泉北ニュータウン地域を中心に、須恵器を生産した窯跡が確認されています。その大部分はいつごろのものですか。
A. 古墳時代 B. 飛鳥時代 C. 奈良時代

問 27. 本市は、昭和 62 年 (1987) に誕生しました。全国では 654 番目の市でしたが、大阪府では何番目でしたか。
A. 26 番目 B. 32 番目 C. 43 番目

問 28. 明治 4 年 (1871) 以後、明治 14 年 (1881) の大阪府編入までの間、現在の大阪狭山市域は、次のどこに含まれていましたか。
A. 丹南 (タナシ) 県 B. 吉見 (ヨシミ) 県 C. 堺 (サカイ) 県

問 29. 狭山池は、これまで何度も改修工事がおこなわれました。鎌倉時代に狭山池の大改修をおこない、東大寺復興でも功績のあった僧は、次のどれですか。
A. 法然 (ホウネン) B. 重源 (チウゲン) C. 行基 (ギョウキ)

問 30. 本市で、大正時代初期、もっとも盛んな工業は何でしたか。
A. 煉瓦 (レンガ) や瓦の製造 B. 綿織物・染物 C. 藁縄 (ワラナリ) の製造

問 31. 現在の本市の産業のうちで、事業者数が一番多い業種は、次のどれですか。

A. 商業・サービス業 B. 農業・水産業 C. 工業・建設

- 問 32. 平成 28 年（2016）10 月 31 日現在の、本市の人口は何人ですか。
A. 47,969 人 B. 57,969 人 C. 67,969 人
- 問 33. 平成の大改修で発見された狭山池築造当初の東樋樋管は、何の木でできていますか。
A. 高野槇（コヤマキ） B. 桧（ヒノキ） C. 松（マツ）
- 問 34. 平成 28 年（2016）10 月 31 日現在の本市の人口は、平成 27 年 10 月 31 日現在の人口と比較すると、どれが正しいですか。
A. 200 人以上減少した。 B. 200 人以上増加した。 C. 増減はなかった。
- 問 35. 飛鳥・奈良時代に、狭山池の北堤を造るために、どのような工法が用いられましたか。
A. 敷石工法 B. 木製枠工 C. 敷葉工法
- 問 36. 鎌倉時代の僧重源が、狭山池の改修工事に用いたものは、何ですか。
A. 船材 B. 石棺 C. 木棺
- 問 37. 江戸時代の初めに狭山池の改修をし、尺八樋を据えた武将はだれですか。
A. 安見美作守宗房 B. 小堀遠州 C. 片桐且元
- 問 38. 狭山池を 1 周する周遊路の長さは、およそ何キロメートル（km）ですか。
A. 2.85 km B. 3.85 km C. 4.85 km
- 問 39. 狭山池や、大阪府立狭山池博物館の周囲に植樹されている桜は、おもにどれですか。
A. カンヒザクラ B. コシノヒガン C. ソメイヨシノ
- 問 40. 狭山池をきれいにする「クリーンアクション」は、1 年におよそ何回おこなわれていますか。
A. ほぼ毎月 1 回で 12 回 B. 年末の 12 月に 1 回だけ C. 6 月と 12 月の 2 回
- 問 41. 狭山池に流れ込んでいる西除川では、池から 2 km ほど遡上した付近でホタルの保護活動がおこなわれています。そのホタルの種類は、どれですか。
A. ゲンジボタル B. ヘイケボタル C. ヒメボタル
- 問 42. 平成の大改修の際にコウヤマキで造られた樋管が出土し、このコウヤマキが切り倒された年代が測定されました。その測定法はどれですか。
A. 放射性炭素年代測定法 B. 花粉年代分析法 C. 年輪年代測定法
- 問 43. 平成の大改修の際に出土したコウヤマキで造られた樋管から、狭山池の築造年代が判明しました。狭山池の築造年代はいつごろですか。
A. 西暦 516 年ごろ B. 西暦 616 年ごろ C. 西暦 716 年ごろ
- 問 44. 奈良時代に、狭山池を改修した僧は、だれですか。
A. 行基 B. 重源 C. 空海
- 問 45. 江戸時代の初めに、摂河泉国奉行の片桐且元が摂河泉の人々を動員して狭山池を改修しましたが、それはいつですか。
A. 慶長 11 年（1606） B. 慶長 13 年（1608） C. 慶長 15 年（1610）
- 問 46. 「バタフライ・ガーデン蝶の森」は、どこにありますか。
A. 副池公園内 B. 陶器山丘陵内 C. 狭山池西北堤防
- 問 47. 「バタフライ・ガーデン蝶の森」は、何という蝶が発見されて作られましたか。
A. シルビアシジミ B. ウスバキチョウ C. チャマダラセセリ
- 問 48. 南町（ミナチヨ）・中之町（ナカチヨ）・寺之町（テラチヨ）・宗人町（ソウニンチヨ）・下之町（シモンチヨ）などの通称地名が残るところは、どこですか。

- A. 池尻地区 B. 茱萸木地区 C. 東野地区
- 問 49. 昭和 45 年（1970）の本市の人口は 19,198 人でした。平成 28 年（2016）現在、本市の人口は、昭和 45 年の人口の、およそ何倍ですか。
A. 2 倍 B. 3 倍 C. 4 倍
- 問 50. 狭山池は 7 世紀に、葉のついた木の枝を敷きつめては土を盛る「敷葉工法」で築造されました。敷葉工法が使われているもので、古い順になっているのはどれですか。
A. 碧骨堤-安豊塘-狭山池 B. 安豊塘-狭山池-碧骨堤 C. 安豊塘-碧骨堤-狭山池
- 問 51. 鎌倉時代におこなわれた狭山池の改修の様子を描いた小説、『水底の棺』の作者はだれですか。
A. 石井ますみ B. 中川なをみ C. 小川みなみ
- 問 52. 鎌倉時代に重源が樋の修理に利用した石棺を、護岸のために再度利用して狭山池の修理をした武将は、だれですか。
A. 安見美作守宗房 B. 北条氏直 C. 片桐且元
- 問 53. 狭山池博物館には狭山池の堤体が保存されていますが、幅、高さはおよそ何メートルありますか。
A. 幅 40m、高さ 10m B. 幅 50m、高さ 12m C. 幅 60m、高さ 15m
- 問 54. 狭山池築造 1400 年記念事業のキャッチフレーズは、どれでしたか。
A. 水とみどり・狭山池誕生 1400 年祭
B. 人・ゆめ・ロマン 狭山池築造 1400 年
C. 悠久の歴史につながる新時代へ・狭山池生誕 1400 年
- 問 55. 本市の教育委員会に関して、正しい記述はどれですか。
A. 教育長の任期は 3 年、教育委員の任期は 4 年である。
B. 教育長の任期は 4 年、教育委員の任期は 3 年である。
C. 教育長も教育委員も任期はともに 3 年である。
- 問 56. 平成 20 年（2010）に、バタフライ・ガーデンで記録された蝶は、何種類ですか。
A. 26 種類 B. 36 種類 C. 46 種類
- 問 57. 狭山池北堤の築造に「敷葉工法」が使われています。使用した木は、どれですか。
A. コウヤマキ・ヒノキ B. ツバキ・サザンカ C. ウラジロガシ・アラカシ
- 問 58. 狭山池で初めて鉄筋コンクリート製の取水塔が完成したのは、いつですか。
A. 大正 15 年（1926） B. 昭和 6 年（1931） C. 昭和 16 年（1941）
- 問 59. 平成 26 年（2014）8 月 21 日に、「大阪府狭山池出土木樋・重源狭山池改修碑」が国の重要文化財に指定されました。本市のもう 1 つの、国指定の重要文化財はどれですか。
A. 吉川家住宅 B. 風輪寺の絹本著色釈迦如来及四菩薩像
C. 狭山池中樋尺八樋
- 問 60. 本市にある、昭和 50 年（1975）3 月 31 日大阪府指定の天然記念物は、どれですか。
A. 三都神社の椎（シイ） B. 狭山池のモロコ C. 蓮光寺のさざんか
- 問 61. 牛頭天王社と呼ばれていた池尻の氏神は、明治 42 年（1909）に狭山神社に合祀されましたが、その後、池尻中に復興されました。その神社はどれですか。
A. 八雲神社 B. 狭間神社 C. 宇賀美多麻神社
- 問 62. 大阪府立狭山池博物館には、重源が樋管の一部に使用した石棺が多数、展示・保管されています。これらについて、正しい記述はどれですか。
A. すべて国指定重要文化財である。 B. 府指定重要文化財と本市指定文化財がある。
C. 国指定重要文化財、大阪府指定文化財、本市指定文化財の 3 種がある。



問題：龍神社前の丸い穴は、何でしょうか？

答：狭山池ダムの池干しの際、姿を現した龍神淵です。龍神さん、または大蛇が住むといわれています。

- 問 63. 本市には、国登録文化財が2件あります。松田家住宅と、他の一つは何ですか。
A. 辻家住宅 B. 吉川家住宅 C. 末永家住宅
- 問 64. 本市の名誉市民・末永雅雄博士は、考古学者として初めて、何を受章されましたか。
A. 文化勲章 B. 旭日大綬章 C. 紫綬褒章
- 問 65. 本市出身の考古学者、末永雅雄博士の著書でないのは、どれですか。
A. 日本上代の甲冑 B. 日本上代の武器 C. 日本上代の刀剣
- 問 66. 末永雅雄博士の研究姿勢を表している言葉は、どれですか。
A. 臥薪嘗胆 (ガシシヨウタン) B. 常歩無限 (ナミアシムゲン) C. 泰然自若 (タイゼンジジヤク)
- 問 67. 末永雅雄博士が、日本で初めて考古学調査に導入した手法は、どれですか。
A. 花粉による年代測定 B. 年輪で樹木の年代測定 C. 古墳の航空観察
- 問 68. 狭山神社の境内にある摂社のうち、式内社はどれですか。
A. 稻荷神社 B. 狭山堤神社 C. 戎神社
- 問 69. 東野の西迎寺で、旧暦2月15日に催される行事「コロコロまき」は、どれですか。
A. 涅槃会 (ネハエ) B. 花祭り C. 精霊 (シヨウリョウ) 迎え
- 問 70. 「こいさか子安地藏尊これより一丁」と刻まれた町石が近くに立つ寺は、どれですか。
A. 風輪寺 (半田) B. 極楽寺 (東野) C. 報恩寺 (狭山)
- 問 71. 「さ山の池」という名前が登場する古典は、どれですか。
A. 枕草子 B. 落窪物語 C. 源氏物語
- 問 72. 江戸時代初期の開基で、後に狭山藩北条氏の位牌所になった寺院は、どれですか。
A. 風輪寺 B. 極楽寺 C. 報恩寺
- 問 73. 8月7日にアラタナ (新棚) を置く家がありますが、何をまつるものですか。
A. お地藏様 B. 新仏 C. ご先祖
- 問 74. 「姥ヶ懐 (うばがふところ)」という古い地名は、どこに残っていますか。
A. 東野 B. 今熊 C. 茱萸木
- 問 75. 本市を通る、「伊勢道」と呼ばれる古い街道は、どこを通っていますか。
A. 今熊 B. 東野 C. 池之原
- 問 76. 陶器山から大野にかけて、弘法大師の「七不思議」の伝承が残っています。①千畳敷、②大師井戸、③梵字が芝 (原)、④笹無し山、⑤船の形と、残り2つはどれですか。
A. 地獄の穴と爪書き石 B. 猫坂と黄金塚 C. 根笹と亀呼場
- 問 77. 本市では、10月に秋祭りが盛大におこなわれ、秋の風物詩の一つになっていますが、元治2年 (1865) のだんじりについての記録がある文書は、どれですか。
A. 吉川家文書 B. 壺井家文書 C. 中林家文書
- 問 78. だんじり祭りで地車が宮入しますが、狭山神社に宮入しないのは、どこの地車ですか。
A. 前田 B. 川向 C. 山本
- 問 79. 三都神社に宮入するだんじりで、正しいのはどれですか。

- A. 山本・大野・茱萸木北 B. 今熊・山伏・隠 C. 岩室・山本・浦之庄
- 問 80. 市民が企画・運営する「狭山池まつり」が初めて開催されたのは、何年ですか。
A. 平成 12 年 (2000) B. 平成 14 年 (2002) C. 平成 16 年 (2004)
- 問 81. 本市の地名で、読み方が正しいのは、どれですか。
A. 茱萸木 (ぐみのき) B. 草沢 (くささ) C. 浦之庄 (うらのしょう)
- 問 82. 東野という地名は、何に由来しますか。
A. 高木藩重臣の東野氏 B. 狭山荘東部の原野 C. 野田庄の東部
- 問 83. 今熊という地名は、何に由来しますか。
A. 今でも熊が出る B. 三都神社の狛犬が熊だ C. 今熊野の略称
- 問 84. 平成 26 年 (2014) の、金剛駅の一日平均の乗降者数は、およそ何人でしたか。
A. 25,000 人 B. 35,000 人 C. 45,000 人
- 問 85. 半田にある 5 つの集落は、「東村・川向・前田・浦之庄」と、残り 1 つはどれですか。
A. 北村 B. 南出 C. 金剛
- 問 86. 本市の地名で、「草沢」「茱萸木」の正しい読み方はどれですか。
A. くささわ・ぐみのき B. くさざわ・くみのき C. くささ・くみのき
- 問 87. 今熊にある「おわり坂」は、何に由来しますか。
A. 中高野街道の「終わり」にあたる。
B. 狭山池改修工事に従事した「尾張衆」に由来する。
C. 江戸時代、木綿の布を針で縫い、衣服などを作っていた「御針子」に由来する。
- 問 88. 西高野街道をはさんで、口大野の西の堺市側は、通称「隠 (かくれ)」と呼ばれますが、その理由は何ですか。
A. 東側に急な崖と藪 (やぶ) が連なり、金剛山が隠れて、見えないから。
B. 台地ではあるが東側が高く、狭山池が隠れて見えないから。
C. 寺社がなく、神仏がお隠れになっているから。
- 問 89. 南海金剛住宅とその周辺の、現在の町名はどれですか。
A. 東茱萸木 B. 自由丘 C. 東川向
- 問 90. 大阪狭山市駅から西方の報恩寺へ続く道の両側の集落は、片桐且元が狭山池修理後に作りしました。その目的は何でしたか。
A. 狭山池の池守 (イカリ) を置いた。 B. 狭山藩の役人を置いた。
C. 狭山池の樋役人を置いた。
- 問 91. 大阪狭山市駅から西方の報恩寺へ続く道の両側は、新宿と呼ばれましたが、その後別の個所にも増置して西新宿と呼びました。それはどこにありましたか。
A. 池之原 1 丁目 B. 岩室 2 丁目 C. 池尻中 3 丁目
- 問 92. 本市内の 4 つの道路は、公募によって愛称がつけられています。この愛称に該当しないのはどれですか。
A. いちょう通り B. 陶器山通り C. さやま通り
- 問 93. 本市の特産農産物は、どれですか。
A. 葡萄 (ブドウ) B. 梨 (ナシ) C. 桃 (モモ)
- 問 94. 豊臣秀吉により小田原を追われた北条氏は、後に狭山藩主になりますが、狭山藩の石高はどれほどでしたか。
A. 約 6 千石 B. 約 1 万 1 千石 C. 約 3 万石
- 問 95. 狭山藩は、初代藩主氏盛から十二代にわたり続きましたが、最後の藩主はだれですか。

- A. 氏恭 (ウジユキ) B. 氏直 (ウジナオ) C. 氏朝 (ウジトモ)
- 問 96. 狭山藩は、狭山池の支配を幕府に願い出て、享保6年(1721)に「預かり」という形で許可されましたが、その後、狭山藩による狭山池の支配は、何年続きましたか。
A. 20年間 B. 23年間 C. 26年間
- 問 97. 江戸時代の半ば、幕府に願い出て狭山池を支配し、池床を整理して田を作り、池底を掘り下げて灌漑用水を改善して農民から感謝された狭山藩主は、だれですか。
A. 氏盛 (ウジモリ) B. 氏朝 (ウジトモ) C. 氏燕 (ウジヨシ)
- 問 98. 江戸時代の狭山を代表する狭山藩は、版籍奉還までおよそ何年続きましたか。
A. 170年 B. 270年 C. 370年
- 問 99. かつての狭山藩の陣屋門が移築されている堺市内の寺は、どれですか。
A. 西本願寺堺別院 B. 南宗寺 C. 妙国寺
- 問 100. 初代氏盛以下十二人の狭山藩主中、祥雲寺に葬られていないのは、氏盛とだれですか。
A. 10代氏久 (ウジヒサ) B. 11代氏燕 (ウジヨシ) C. 12代氏恭 (ウジユキ)
- 問 101. 重源狭山池改修碑は、現在、どこにありますか。
A. 府立狭山池博物館内 B. 大阪歴史博物館 C. 狭山池の北堤上
- 問 102. 重源狭山池改修碑文によれば、重源が狭山池の改修を始めたとき、何歳でしたか。
A. 64歳 B. 73歳 C. 82歳
- 問 103. 本市で、名誉市民(名誉町民)に初めて選ばれた人は、だれですか。
A. 末永雅雄 B. 小池徹平 C. 吉川悦次
- 問 104. 「狭山池は今なお日本池溝史を飾る」の文が刻まれている狭山池の南東堤下にある石碑は、どれですか。
A. 「史跡名勝狭山池」 B. 「狭山池の記」 C. 「狭山池西放水口修造樋」
- 問 105. 梵鐘の内側の墨書で、元は河内国東板持(現富田林市東板持町)の融通念佛宗寺院正法(方)寺のものであったことがわかる梵鐘が残っているのは、どこですか。
A. 東野の蓮光寺 B. 半田の風輪寺 C. 池尻の極楽寺
- 問 106. 中高野街道と下高野街道の合流点にあたる所で、東除川にかかる橋はどれですか。
A. あまのはし B. さやまはし C. いけのうちはし
- 問 107. 本市には、高野街道と呼ばれた旧街道が、いくつありますか。
A. 2つ B. 3つ C. 4つ
- 問 108. 平成9年(1997)に、今熊～大野西間の「あまの街道」は、何に選定されましたか。
A. 大阪の道99選 B. 手作りの道99選 C. ふるさとの道99選
- 問 109. 本市を通る3つの高野街道に関して、正しい記述はどれですか。
A. 西高野街道は、大阪市天王寺区の四天王寺を起点としている。
B. 中高野街道は、大阪市平野区の大念仏寺を起点とし、狭山池の北堤を経て、大阪狭山市駅、金剛駅付近を通って南下している。
C. 下高野街道は、中高野街道より西に位置し、本市内で中高野街道と合流している。
- 問 110. 本市内にある西高野街道の2本の町石は、どこどこにありますか。
A. 今熊と岩室 B. 今熊と草沢 C. 岩室と草沢
- 問 111. 西高野街道の町石には、どこまでの距離が刻まれていますか。
A. 高野山奥の院 B. 高野山一の橋 C. 高野山女人堂

- 問 112. 「穴地蔵」で知られた道標を兼ねた地蔵は、どの街道沿いにありますか。
 A. 天野街道 B. 下高野街道 C. 中高野街道
- 問 113. 4つの高野街道のうち3つが本市を通っています。これらのうち大阪市天王寺区を起点にしていないものは、どれですか。
 A. 西高野街道 B. 中高野街道 C. 下高野街道
- 問 114. 平成 27 年（2015）度の、本市の一般ごみの総排出量（市直営＋委託＋持ち込みによるすべてのごみを含む）は、およそ何トン（t）でしたか。
 A. 約 1,527 t B. 約 15,270 t C. 152,700 t
- 問 115. 現在、本市のごみを処理している工場は、どこにありますか。
 A. 堺市 B. 富田林市 C. 大阪市
- 問 116. 現在、本市を管轄しているのは、大阪府警察本部に所属するどの警察署ですか。
 A. 堺警察署 B. 河内長野警察署 C. 黒山警察署
- 問 117. 本市にある大学は、近畿大学のほか、どの大学ですか。
 A. プール学院大学 B. 桃山学院大学 C. 帝塚山学院大学
- 問 118. 現在、南河内環境事業組合をつくり、広域行政でゴミ処理をおこなっています。この組合に所属している市町村は、本市も含めていくつですか。
 A. 5つ B. 6つ C. 7つ
- 問 119. 「大阪狭山市郷土資料館」は、現在、どこにありますか。
 A. 市立公民館内 B. 文化会館（SAYAKA ホール）内 C. 府立狭山池博物館内
- 問 120. 西山台にある「大阪狭山市立子育て支援センター」の愛称は、どれですか。
 A. ぼっぼえん B. きらりえん C. つばさえん
- 問 121. 本市のさやか通り（府道河内長野美原線）沿いにない施設は、どれですか。
 A. 大阪狭山市役所 B. SAYAKA ホール C. 大阪狭山市立図書館
- 問 122. 市立公民館で近隣施設とともに年 1 回開かれる活動団体の発表の場は、どれですか。
 A. はばたきフェスタ B. 公民館まつり C. 産業祭り
- 問 123. 現在、本市に消防車両（ポンプ車、タンク車、ハシゴ車、指令車、救急車、救助工作車、広報車、積載車をいう）は、本署、出張所合わせて何台ありますか。
 A. 9 台 B. 10 台 C. 13 台
- 問 124. 平成 28 年（2016）3 月現在で、市立図書館の蔵書数は、およそ何冊ですか。
 A. 約 13 万 5 千冊 B. 約 23 万 5 千冊 C. 約 33 万 5 千冊
- 問 125. 池之原にある野球場の両翼の長さは 87m です。センターの長さは、何m ですか。
 A. 88m B. 98m C. 108m
- 問 126. 屋根つき多目的スポーツ広場で、ゲートボールコートが 2 面ある施設は、どれですか。
 A. 池尻体育館 B. 南青少年運動広場 C. ふれあいスポーツ広場
- 問 127. 広域行政ゴミ処理をしている南河内環境事業組合の、第 1 清掃工場は富田林市にあります。第 2 清掃工場は、どこにありますか。
 A. 河内長野市 B. 河南町 C. 千早赤阪村
- 問 128. 「ふれあいスポーツ広場」は、どこにありますか。
 A. 東野 B. 茱萸木 C. 山本東
- 問 129. 現在、本市には、小学校・中学校が、それぞれ何校ありますか。
 A. 小学校 3・中学校 1 B. 小学校 5・中学校 3 C. 小学校 7・中学校 3

- 問 130. 本市の指定文化財になっている「木造十一面観音菩薩立像」は、どこにありますか。
A. 池尻中地区 B. 東池尻地区 C. 半田東村地区
- 問 131. 狭山藩北条氏の家紋、「三つ鱗（みつうろこ）」を校章にしている学校は、どれですか。
A. 市立東小学校 B. 市立西小学校 C. 市立狭山中学校
- 問 132. 本市に、高校と各種学校は、それぞれいくつありますか。
A. 高校 1 校、各種 1 校 B. 高校 1 校、各種 2 校 C. 高校 2 校、各種 1 校
- 問 133. 本市の「学校給食センター」は、どこにありますか。
A. 今熊 2 丁目 B. 茱萸木 2 丁目 C. 西山台 2 丁目
- 問 134. 本市を走る循環バスは、3 つのルートがあります。どのルートのバスも止まる停留所は、どれですか。
A. 市役所とコミュニティセンター B. 市役所と総合体育館 C. 市役所と福祉センター
- 問 135. 本市には、平成 28 年（2016）10 月 31 日現在で、100 歳以上の人が 26 人います。男性はそのうち、何人ですか。
A. 1 人 B. 2 人 C. 4 人
- 問 136. 平成 28 年（2016）5 月現在、市内の小・中学校の給食実施食数は、どれほどですか。
A. 約 4,300 食 B. 約 5,300 食 C. 約 6,300 食
- 問 137. 本市で、平成 27 年（2015）に実施した、学校給食は中学校では年間 170 回です。小学校では、およそ何回ですか。
A. 160 回 B. 170 回 C. 180 回
- 問 138. 現在、本市の市民 1 人につき、水道水を 1 日平均何リットル（ℓ）使用していますか。
A. 約 117 ℓ B. 約 217 ℓ C. 約 317 ℓ
- 問 139. 現在、本市の水道水について、正しい記述はどれですか。
A. 太満池浄水場で造られた浄水が 40%で、残りは大阪府より受水している。
B. 市内全域に、大阪広域水道企業団が淀川の水からつくった浄水が供給されている。
C. 市内全域に、太満池浄水場でつくられた浄水が供給されている。
- 問 140. 本市の平成 27 年（2015）度の上水道の年間総給水量は 650 万 m³です。これは狭山池の総貯水量の、およそ何倍分ですか。
A. 約 0.3 倍。 B. 約 1.3 倍。 C. 約 2.3 倍。
- 問 141. 本市で広域簡易水道により、6,000 人分の規模で給水が開始されたのは、いつですか。
A. 昭和 24 年（1949） B. 昭和 34 年（1959） C. 昭和 44 年（1969）
- 問 142. 本市で自己水を廃止し、大阪広域水道水（旧府営水）の供給を市内全域で開始したのは、いつですか。
A. 平成 22 年（2010）4 月 B. 平成 23 年（2011）4 月 C. 平成 24 年（2012）4 月
- 問 143. 本市の自主的な市民活動を支援する「市民活動支援センター」は、どの施設にありますか。
A. 大阪狭山市役所本館 B. 大阪狭山市役所南館 C. コミュニティセンター
- 問 144. 本市の「市民公益活動促進基金制度」は、市民や事業者などから寄せられた寄附金と同額を市も積み立て、市民の公益活動を金銭面で支援しています。このような資金の積み立て方法を、何と呼んでいますか。
A. マッチング・ギフト方式 B. マッチング・ドナーシップ方式 C. マッチング・パイルアップ方式
- 問 145. 本市の「市民公益活動促進基金制度」で、寄付金額に関係なく市が積み立てる金額の上限はいくらですか。

A. 50 万円

B. 500 万円

C. 5,000 万円



問題：これは、何の写真でしょうか？

答：SAYAKA ホールで行われる「こどもフェスティバル」で、市内の幼稚園児や小学校児童の、楽しい発表の場になっています。

- 問 146. 市内の 3 つの中学校区すべてに「まちづくり円卓会議」が設立されています。最初に設立をみたのは、どの校区ですか。
- A. 狭山中学校区 B. 南中学校区 C. 第三中学校区
- 問 147. 平成 29 年（2017）は、本市とオンタリオ市との姉妹都市提携後、何年になりますか。
- A. 23 年 B. 33 年 C. 43 年
- 問 148. 本市の姉妹都市であるオンタリオ市は、米国の何州にありますか。
- A. ワシントン州 B. オレゴン州 C. アイダホ州
- 問 149. 本市の姉妹都市であるオンタリオ市は、農業や牧畜が盛んですが、世界的に有名な農産物は、どれですか。
- A. たまねぎ B. かぼちゃ C. 小麦
- 問 150. 本市の姉妹都市であるオンタリオ市の面積と人口について、おおよそ正しいものはどれですか。
- A. 80 km²、1 万 2 千人 B. 100 km²、2 万 4 千人 C. 120 km²、2 万 4 千人
- 問 151. 本市が和歌山県日高川町（旧美山村）と友好都市提携をした契機は、何ですか。
- A. 「桜の名所」 B. 「水の郷百選」 C. 「熊野古道」
- 問 152. 本市の友好都市、和歌山県日高川町は、平成 17 年（2004）の「平成の大併合」により 1 町 2 村が合併して誕生しました。これらは川辺町、中津村と、もう 1 つの村はどれですか。
- A. 龍神村 B. 美山村 C. 日高川村
- 問 153. 本市の友好都市、和歌山県日高川町初湯（ウヅユ）川（旧美山村）には、和歌山県一の規模を誇るダムがあります。このダムの名前は、どれですか。
- A. 美山ダム B. 椿山ダム C. 春山ダム
- 問 154. 現在、条例で定められた本市議会の議員定数は、何人ですか。
- A. 15 人 B. 18 人 C. 20 人
- 問 155. 本市議会では平成 25 年（2013）年 4 月 1 日から通年議会が実施され、定例会の招集を年 1 回に改められました。それまでは、定例会は、年何回招集されていましたか。
- A. 3 回 B. 4 回 C. 6 回
- 問 156. 「今、河内の狭山の埴田水少なし、是を以て、其の國の百姓、農の事に怠る。其れ多に池溝を開りて、民の業を寛めよ」という詔が記載されている歴史書は、どれですか。
- A. 日本書紀 B. 続日本記 C. 古事記
- 問 157. 「次に印色入日子命（仁計伊弉比命）は、血沼（チヌ）の池を作り、又狭山池を作り」と、狭山池について述べた歴史書は、どれですか。
- A. 日本書紀 B. 続日本記 C. 古事記
- 問 158. 本市の市歌で、「金剛山の山なみを水面にうつす狭山池…」で始まるのは、何番ですか。
- A. 1 番 B. 2 番 C. 3 番
- 問 159. 市民憲章のうち「思いやりの芽を育て、〇〇まちをつくりましょう」の、〇〇の部分に入る言葉は、どれですか。
- A. 明るく楽しい B. 美しく住みよい C. 夢と希望のある

- 問 160. 現在、大阪狭山市の条例にないのは、どれですか。
A. 大阪狭山市パチンコ遊技場等及びゲームセンターの建築の規制に関する条例
B. 大阪狭山市ラブホテル建築の規制に関する条例
C. 大阪狭山市公共的施設における受動喫煙防止条例
- 問 161. 現在、本市の電話の市外局番は、どれですか。
A. 07 B. 072 C. 0723
- 問 162. 狭山池の築造時の貯水量は、約 81 万 m³でした。平成の大改修の結果、現在の総貯水量は、どれほどですか。
A. 約 180 万 m³ B. 約 280 万 m³ C. 約 380 万 m³
- 問 163. 現在、本市を通る国道は、どれですか。
A. 国道 308 号 B. 国道 309 号 C. 国道 310 号
- 問 164. 本市ゆかりの有名人は、だれですか。
A. 小池徹平 B. 小池栄子 C. 小池里奈
- 問 165. 平成 28 年（2016）年 4 月の「狭山池まつり」では、2 日間の来場者数は、公式発表でおよそ何人でしたか。
A. 36,000 人 B. 56,000 人 C. 76,000 人
- 問 166. 平成 23 年（2011）度末で、本市の下水道の普及率は、どれですか。
A. 約 97.5% B. 約 98.7% C. 約 99.9%
- 問 167. 平成 25 年 4 月から、本市の下水道使用料金が改訂されました。改定後の基本料金（20 m³以下、2 か月分、税抜）は、いくらですか。
A. 1,400 円 B. 1,800 円 C. 2,200 円
- 問 168. 現在、本市を走る循環バスのルートは、いくつありますか。
A. 2 ルート B. 3 ルート C. 5 ルート
- 問 169. 市役所からコミュニティセンターまで行くのに、大人 1 人、小学生 1 人が循環バスを利用しました。運賃の合計は、いくらですか。
A. 100 円 B. 150 円 C. 200 円
- 問 170. 本市の平成 28 年（2016）度の一般会計当初予算は、およそいくらですか。
A. 19.34 億円 B. 193.4 億円 C. 1,934 億円
- 問 171. 本市で、自転車を放置禁止区域に放置して撤去されました。撤去保管料はいくらですか。
A. 500 円 B. 1,000 円 C. 1,500 円
- 問 172. 本市のマスコットキャラクターは、どれですか。
A. くまもん B. せんとくん C. さやりん
- 問 173. 本市のマスコットキャラクターは、何をモチーフにしていますか。
A. 狭山池の竜神伝説と狭山池を取り巻く桜
B. いちょう通りの銀杏（イチョウ）の葉と蝶の森を飛ぶチョウ
C. 鹿の角をもった童子
- 問 174. 平成 25 年（2013）10 月、本市の観光大使が誕生しました。「さやりん」のほか、どれですか。
A. さやま未来プランナー B. さやまブランド開発 C. さやま子供会
- 問 175. 本市の人口が 5 万人を超えたのは、いつですか。
A. 昭和 50 年（1975） B. 昭和 60 年（1985） C. 平成 7 年（1995）
- 問 176. 本市に残る西高野街道の高野山女人堂への町石は、何里と何里のものですか。

- A. 八里と九里 B. 九里と十里 C. 十里と十一里
- 問 177. 大阪府が定めた、「みどりの百選」に選ばれているのは、どれですか。
A. 狭山神社 B. 三都神社 C. 池之原神社
- 問 178. 無量院安養山西迎寺（サイウジ）という融通念仏宗の寺院は、どこにありますか。
A. 西池尻 B. 東野 C. 岩室
- 問 179. 次の高野街道のうち、市内を通っていないものは、どれですか。
A. 中高野街道 B. 下高野街道 C. 東高野街道
- 問 180. 明治 31 年（1898）に高野鉄道（現南海高野線）が開通したのは、どの駅間ですか。
A. 大小路駅－狭山駅 B. 大小路駅－金剛駅 C. 大小路駅－河内長野駅
- 問 181. 本市の花、または木に選ばれていないものは、どれですか。
A. つつじ B. さくら C. いちょう
- 問 182. 本市は山と山に挟まれた地形にあります。それはどれと、どれですか。
A. 金剛山脈・葛城山脈 B. 羽曳野丘陵・陶器山山系 C. 葛城山脈・陶器山山系
- 問 183. 狭山半田郵便局から浦之庄交差点までの道路の愛称は、どれですか。
A. さやか通り B. いちょう通り C. さやま通り
- 問 184. 狭山池公園は、市制 20 周年の年に、「日本の歴史公園 100 選」に選ばれましたが、それは、何年でしたか。
A. 平成 12 年（2000） B. 平成 19 年（2007） C. 平成 24 年（2012）
- 問 185. 狭山ニュータウンの入居が開始されたのは、いつですか。
A. 昭和 42 年（1967） B. 昭和 44 年（1969） C. 昭和 46 年（1971）
- 問 186. 今熊にある三都神社について、間違った記述はどれですか。
A. 別宮の三都戎神社は、明治時代の末に、三都神社の境内に造られた。
B. 御祭神は、「いざなぎの尊」「いざなみの尊」「すさのおの尊」の三神である。
C. 三都神社は、明治初期に廃寺となった金蔵寺の、鎮守であった。
- 問 187. 市制施行により、全国で 654 番目、大阪府内で 32 番目の市として大阪狭山市が誕生しましたが、それはいつですか。
A. 昭和 26 年（1951） B. 昭和 42 年（1967） C. 昭和 62 年（1987）
- 問 188. 平成の大改修といわれる狭山池の改修の、着工および竣工の時期は、どれですか。
A. 昭和 63 年（1988）12 月着工、平成 14 年（2003）3 月竣工
B. 平成元年（1989）12 月着工、平成 13 年（2002）3 月竣工
C. 平成元年（1989）12 月着工、平成 14 年（2003）3 月竣工
- 問 189. 大野と山本北について、間違った記述はどれですか。
A. 大野は近世にできた新田村落で、本市の南端の山林・田畑の多い丘陵地である。
B. 山本北は、市制施行時まで大野の飛び地であり、口大野と呼ばれていた。
C. 大野には八幡神社があるが、山本北には神社・寺院とも存在しない。
- 問 190. 南海高野線金剛駅の駅名にある「金剛」の、由来は何ですか。
A. 「金剛山」が、正面に眺望できることから。
B. 新西国霊場第七番札所である、「天野山金剛寺」への参詣路であるから。
C. 四国八十八か所霊場出開帳の会場であった「金剛園」の名前から。
- 問 191. 狭山池に流れ込む西除川の上流 2 km 付近で、準絶滅危惧種のヒメボタルが生息しています。ヒメボタルについて、正しい記述は、どれですか。
A. ヒメボタルは、ゲンジボタルやヘイケボタルより、体の大きさが大きい。
B. ゲンジボタルの幼虫は水生であるが、ヒメボタルの幼虫は、陸生である。
C. ヒメボタルのメスは、オスよりよく飛びまわり、オスよりよく光る。

- 問 192. 本市にあるこの寺は、融通念佛宗の寺院で山号を慈眼山といい、池尻村の大念仏道場を起源とすると言われていています。本尊は木造阿彌陀如来像です。この寺は、どれですか。
A. 極楽寺 B. 風輪寺 C. 西迎寺
- 問 193. 本市にある民間保育所・こども園は、池尻保育園、ルンビニ保育園、花梨つばさ保育園、山本こども園、大野台こども園、つぼみこども園と、もう1つは、どれですか。
A. ひかり保育園 B. ひまわり保育園 C. きらり保育園
- 問 194. 近世において狭山藩は、狭山池を管理する池守（イカリ）を、だれに世襲させましたか。
A. 田中弥左衛門 B. 田中孫左衛門 C. 田中重左衛門
- 問 195. 現在、本市には、市指定文化財が8つありますが、該当しないものはどれですか。
A. 岩室村年代記中林家本 B. 大野惣絵図
C. 壺井義城家文書
- 問 196. 「亀の甲（かめのこう）」と呼ばれる字名のあるのは、どこですか。
A. 池尻・西池尻 B. 半田・川向 C. 茱萸木・池之原
- 問 197. 平成3年（1991年）に市史の編さん事業を開始して以来、これまで、史料編4冊（古代・中世、近世、近現代、狭山池）、石造物編などが刊行されています。平成26年度に刊行された『本文編 通史』は、市史の何冊目にあたりますか。
A. 7冊目 B. 8冊目 C. 9冊目
- 問 198. 江戸時代まで、本市は、どの国に入っていましたか。
A. 河内国 B. 摂津国 C. 和泉国
- 問 199. 狭山藩北条氏について、間違った記述はどれですか。
A. 狭山藩の藩主が狭山に陣屋を建てたのは、第二代氏信である。したがって実質的に狭山藩の名が起こったのは氏信が藩主になった元和2年（1616）からである。
B. 享保6年（1721）に狭山新宿と狭山池の支配を許され、藩の財政・軍備・民政に心を尽くした第五代藩主は、氏朝（うじとも）である。
C. 氏久は嘉永5年（1852）に第十一代藩主になり、翌年はペリーが浦賀に入港するなど激しく変化する時代であったが、さまざまな方策を講じて軍備捻出に努力した。
- 問 200. 奈良時代に狭山池の改修にたずさわった僧行基について、間違った記述はどれですか。
A. 『行基年譜』には、行基が狭山池を改修し、天平3年（731）に狭山池院と尼院を建てたことが記されている。
B. 行基は、天平17年（745）に朝廷より大僧正の位を与えられ、奈良の大仏建立の実質的な責任者を務めた。
C. 『南無阿彌陀仏作善集』には、養老2年（718）に行基が石棺を用いて狭山池の改修を行ったことが記されている。
- 問 201. 本市には、狭山池・大鳥池など多くのため池や、西除川・三津屋川の河川があり、貴重な水空間となっています。その水面の面積は市の面積の何%を占めていますか。
A. およそ5.1% B. およそ7.1% C. およそ9.1%
- 問 202. 奈良時代の狭山を知ることができる資料で、村山連首麻呂の出身地が「河内国丹比郡狭山郷」と記されている文書は、どれですか。
A. 興福寺文書 B. 正倉院文書 C. 法隆寺文書
- 問 203. 池尻城跡の遺跡調査で出土した冑金（カブトガネ）は、何に使うものですか。
A. 兜（カブト）の飾り B. 鎧（ヨロイ）の飾り C. 太刀の柄頭（ツカガシラ）
- 問 204. 狭山藩が元和2年（1616）に池尻村の陣屋を構える工事に着手しましたが、その時の藩主は、狭山藩何代目のだれですか。
A. 初代氏盛（うじもり） B. 二代目氏信（うじのぶ） C. 三代目氏宗（うじむね）
- 問 205. 江戸時代、本市域は幕府・大名・旗本によって分割支配されていましたが、明治の廃藩時の半田村の領主は、どれですか。

A. 小田原藩大久保氏

B. 狭山藩北条氏

C. 幕府領



問題：何の写真でしょうか？

答：大阪狭山市消防署出初式の様子です。さまざまな色の水を一斉に狭山池に向けて放水する様子は、壮観です。

- 問 206. 狭山池の平成の大改修は、豪雨による西除川下流部の浸水被害が発生したことが契機になりましたが、この豪雨が降ったのはいつですか。
A. 昭和 54 年 (1979) B. 昭和 57 年 (1982) C. 昭和 60 年 (1985)
- 問 207. 大阪狭山市文化会館（さやかホール）は平成 6 年 (1994) 11 月に開館しました。さやかホールの収容人数は、大ホールと小ホール、それぞれ何人ですか。
A. 大:1008 人、小:298 人 B. 大:1208 人、小:368 人 C. 大:1408 人、小:408 人
- 問 208. 狭山池は、現在、国の史跡に指定されていますが、それまでは大阪府の史跡・名称の第 1 号に指定されていました。指定されたのは、いつですか。
A. 昭和 16 年 (1941) B. 昭和 20 年 (1945) C. 昭和 24 年 (1949)
- 問 209. 狭山池蝶の森（バタフライガーデン）に訪蝶・産卵育成した種類で、確認できなかった蝶はどれですか。
A. クロアゲハ B. シルビアシジミ C. オオムラサキ
- 問 210. 本市に、「札の辻」という古い地名が十数か所ありますが、何を表していますか。
A. 禁制・法度の高札場 B. 神仏の守り札売り場 C. 両替商の立つ所
- 問 211. 狭山池の中に龍神社が祀られています。祀られたのは、いつのころですか。
A. 慶長年間 (1596～1615) B. 宝暦年間 (1751～1764) C. 安政年間 (1854～1860)
- 問 212. 狭山池西堤のバタフライ・ガーデンの中に「狭山池西放水口修造碑」と書かれた石碑がありますが、この碑はいつの改修を記念したものですか。
A. 安政の改修 (1858 年) B. 明治の改修 (1903 年) C. 大正～昭和の改修 (1926～1931 年)
- 問 213. 天平宝字 6 年 (762) の改修では、それまでの狭山池の堤をさらに高くし、貯水量も 2 倍になりました。その時動員された人の数は、延べ何人でしたか。
A. 8 万 3 千人 B. 10 万 3 千人 C. 12 万 3 千人
- 問 214. 9 世紀初めに編さんされた「新撰姓氏録（しんせんしょうじろく）」に、狭山郷に関する氏（うじ）として 4 氏が記されていますが、その中にない氏はどれですか。
A. なかとみのたからひのむらじ 中臣高良比連 B. さやまのむらじ 狭山連 C. たじひのむらじ 多治比連
- 問 215. 狭山藩には幕末に「簡修館」という藩校の学問所がありました。さて、本市では、幕末から明治初期にかけて、寺小屋はいくつ開かれていましたか。
A. 8 か所 B. 10 か所 C. 15 か所
- 問 216. 宝暦 10 年 (1760) に、狭山藩に御家騒動が起きました。きっかけは、北条氏彦（ウヅヅ）の七代藩主就任にともなう、家中の対立にありました。その経緯を記した書物は、どれですか。
A. 狭山藩実政記 B. 三鱗実政記 C. 氏貞公日記
- 問 217. 明治初期、本市に村はいくつありましたか。ただし、口大野と奥大野は、大野新田として一村と数えます。
A. 7 村 B. 9 村 C. 11 村
- 問 218. 昭和 6 年 (1931) に、狭山村と三都村が合併し、新たな狭山村が誕生しました。7 年後に新役場が狭山池付近に完成するまで、どちらの役場を使っていましたか。

- A. 旧狭山村役場 B. 旧三都村役場 C. 二つを交代で使用
- 問 219. 昭和 26 年（1951）4 月 1 日に、狭山村は町制を施行し狭山町になりましたが、その年の狭山町の人口は、およそ何人でしたか。
A. 9,200 人 B. 11,200 人 C. 13,200 人
- 問 220. 狭山ニュータウンの起工式は、昭和 42 年（1967）4 月に行われました。その時のキャッチフレーズは、どれでしたか。
A. 新しい緑の丘 B. 新しい青空の丘 C. 新しい太陽の丘
- 問 221. 昭和 60 年（1985）の国勢調査で、本市は初めて人口が 5 万人を超え、狭山町は市制施行に向けて動き出しました。それに伴い、翌年秋に公募した新しい市名候補で、一番多かった名前は、どれでしたか。
A. 大阪狭山市 B. 南狭山市 C. 河内狭山市
- 問 222. 明治末期に、大阪府では「一村一社」運動が起きました。三都村でも、当時あった複数の神社が今熊野神社に合祀され、「三都神社」と名づけられました。さて、三都村には当時、いくつ神社がありましたか。
A. 7 社 B. 9 社 C. 11 社
- 問 223. 大阪狭山市の事業や施策に関して、市の職員が地域に出向いて説明や話をする「生涯学習出前講座」について、間違った記述はどれですか。
A. 50 以上のテーマから市民が選べる。
B. 10 人以上の市民の団体やグループであれば、申し込むことができる。
C. テーマに関する質問・要望もできる。
- 問 224. 大阪狭山市内循環バスについて、間違った記述はどれですか。
A. 交通系 I.C. カードを利用できる。
B. 循環バス各ルート of 現在位置がスマートフォン・携帯電話で確認できる。
C. 毎日市内 3 ルート両まわり 66 便運行する。
- 問 225. 狭山池公園について、正しい記述はどれですか。
A. 「日本の歴史公園 100 選」に、選定されている。
B. 池の周囲には、約 1400 本のソメイヨシノが植栽され、春には花見でにぎわう。
C. 平成 20 年（2008）7 月に、公園として整備された。
- 問 226. 大阪狭山市立図書館について、正しい記述はどれですか。
A. 電話帳は、全国の『タウンページ』『ハローページ（企業名）』『ハローページ（個人名）』をそろえている。また、新聞も、朝日・サンケイスポーツ・日経・毎日・読売新聞は、1 年間保存している。
B. 開館時間は、午前 9 時から午後 9 時までである。
C. 宅配サービスを実施しており、原則、貸出期間は往復の郵送にかかる日数も含めて 3 週間・貸出冊数は 5 冊までとしている。
- 問 227. 本市について、正しい記述はどれですか。
A. 昭和 62 年（1987）10 月 1 日に、本市は市制施行をし、南河内郡狭山町は狭山市となったが、埼玉県狭山市が先に狭山市の名称を使用していたため、翌日改称して、大阪狭山市となった。大阪狭山市は、大阪府下では第 35 番目の市である。
B. 昭和 61 年（1986）秋に公募した新しい市名候補は、1374 件中、「大阪狭山市」がトップ（329 件）で、「さやま市」が二番目（121 件）、「河内狭山市」は三番目（117 件）であった。
C. 平成 22 年（2010）の国勢調査によると、本市の人口は 58,227 人で、府内にある 33 市では阪南市・四條畷市に次いで、3 番目に少なかった。
- 問 228. 狭山池の地番で、正しいものはどれですか。
A. 半田 1402-1 ほか B. 岩室 1402-1 ほか C. 池尻中 1402-1 ほか
- 問 229. 公立学校の、非常災害時における対応について、正しい記述はどれですか。
A. 台風の当日、午前 7 時現在、台風による「暴風警報」「大雨警報」のいずれかが本市または大阪府全域・南河内全域において発令されている場合は、登校を見合わせて自宅待機とする。

- B. 午前10時現在で、台風以外の「暴風警報」「大雨警報」のいずれかの警報が発令されている場合は、臨時休校とする。
- C. 地震当日の午前6時から登校までの間に、本市およびその周辺地域において「震度5強以上」の地震が発生した場合は、臨時休校とする。
- 問 230. 狭山池公園には、1000本を超えるたくさんの桜(コシノヒガン等)が植えられています。なかでも最も早く咲く、濃いピンク色の桜が、狭山池北堤の狭山池博物館近くに3本あります。この品種はどれですか。
- A. カンヒザクラ(寒緋桜) B. ベニギク(紅菊) C. スルガダイニオイ(駿河台匂)
- 問 231. 大阪狭山市駅に関して、間違った記述はどれですか。
- A. 大正6年(1917)7月5日、大阪高野鉄道の狭山駅―滝谷駅間に、河内半田駅として新設された。
- B. 昭和19年(1944)6月1日、会社合併により南海鉄道の駅から近畿日本鉄道の駅となった。
- C. 駅名は、「河内半田駅」→「狭山駅」→「狭山遊園前駅」→「大阪狭山市駅」と改称されてきた。
- 問 232. 市内のバス運行に関して、間違った記述はどれですか。
- A. 路線バスは、すべて南海バスである。
- B. 南海高野線金剛駅東口には、大阪駅・なんば駅からの「深夜急行バス」も乗入されている。
- C. 南海高野線金剛駅西口から、関西国際空港行きリムジンバス「Sorae」も運行されている。
- 問 233. 「大阪狭山市の初代市長は(a)氏で、現在の古川照人市長は(b)代目に当たります。」 a、bの組み合わせで正しいものは、どれですか。
- A. a: 吉田友好、b: 4 B. a: 酒谷忠生、b: 4 C. a: 吉川悦次、b: 5
- 問 234. 本市内を通る道路に関して、間違った記述はどれですか。
- A. 国道1本(310号線)、府道7本(26号大阪狭山線・34号堺狭山線・38号富田林泉大津線・198号河内長野美原線・202号森屋狭山線・203号富田林狭山線・217号大野天野線)が通っている。
- B. 平成6年(1994)に市が公募し命名した「道路の愛称」は、さやか通り・狭山池博物館通り・いちよう通り・陶器山通りの4つだけである。
- C. 通称「さやか通り」は、大阪府道198号河内長野美原線のうち、狭山半田郵便局から狭山池通りと交差する浦之庄交差点までの区間。沿道にSAYAKAホールや市役所がある。
- 問 235. 狭山池は昭和16年(1941)に大阪府の「史跡・名勝」の第1号に指定されましたが、現在、国指定史跡に指定されています。指定されたのは、いつですか。
- A. 平成26年8月21日 B. 平成26年9月25日 C. 平成27年3月10日
- 問 236. 市内にある3つの住宅が、a 国登録有形文化財や b 大阪府指定文化財に指定されています。a、bの組み合わせで正しいものは、どれですか。
- A. a: 辻・松田家 b: 吉川家 B. a: 辻家 b: 松田・吉川家
- C. a: 吉川家 b: 辻・松田家
- 問 237. 市内には、地域で愛され、愛称で呼ばれる地蔵がいくつもあります。茱萸木地区にない地蔵は、どれですか。
- A. 牛瀧地蔵 B. おため地蔵 C. 夜泣き地蔵
- 問 238. 現在、狭山池を管理しているのは、どこですか。
- A. 狭山池普通水利組合 B. 狭山池土地改良区 C. 狭山池水利土功会
- 問 239. 狭山池の「平成の改修」は、いつ始められ、どれほどの期間を要しましたか。
- A. 昭和63年(1988)から、14年間 B. 平成1年(1989)から、13年間
- C. 平成2年(1990)から、12年間



問題：狭山市内の、どこの写真でしょうか？

答：狭山池東堤、南側から北方を望む場所。桜が満開の春には、狭山池の堤防は、多くの花見客でにぎわいます。

- 問 240. 大阪狭山市では、狭山池をはじめとする歴史文化遺産や地域の特性を生かした特産品など、本市の魅力を広く周知し、本市の都市イメージの向上及び観光振興を図るため、大阪狭山市観光大使設置要綱を平成 25 年 10 月 1 日に制定しました。また、同年 10 月 18 日付けで、大阪狭山市観光大使が委嘱されています。大阪狭山市観光大使として、正しくないのはどれですか。
- A. さやま未来プランナー B. さやりん C. 大阪狭山市観光協会
- 問 241. 大阪狭山市の歴史を子ども向けにわかりやすくまとめた『おおさかさやまの歴史』と『大阪狭山市史』本文編通史の概要版である『大阪狭山市の歴史』の 2 冊が、平成 26 年 12 月、平成 27 年 3 月にそれぞれ刊行しました。2 冊ともフルカラーで読みやすいデザインになっています。さて、いくらで販売されていますか。
- A. いずれも 300 円 B. いずれも 500 円 C. いずれも 800 円
- 問 242. 7 世紀のダム式ため池の狭山池北堤と、4 世紀の韓国の碧骨堤は、ともに「敷葉工法」を用いて築造されました。これら二つの池の世界文化遺産共同登載に向け、文化や観光、教育など幅広い分野で友好交流を進めようと、平成 24 年 6 月 27 日、「親善及び相互協力意向書」を締結する調印が行われたのは、大阪狭山市と、韓国のどの市ですか。
- A. 全羅北道金堤市 B. 忠清北道堤川市 C. 全羅南道碧骨市
- 問 243. 本市の友好都市和歌山県日高郡日高川町で、小学校跡を改築・整備した野外活動施設「上初湯川ふれあいの家」が平成 14 年(2002)5 月 25 日にオープンし、本市の住民も多くが利用しています。さて、「上初湯川」の正しい読み方は、どれですか。
- A. かみはっとうがわ B. かみうぶゆがわ C. かみはつゆがわ
- 問 244. 市立の幼・保一元化施設は、どれですか。
- A. こども園 B. ぽっぽ園 C. つぼみ園
- 問 245. 19 世紀半ば、幕末の狭山では教育熱が高まり、村々には寺子屋が、そして狭山藩陣屋の上屋敷内には藩校が開かれました。この藩校の名前はどれですか。
- A. 伝習館 B. 修猷館 C. 簡修館
- 問 246. 本市では、多くの市民がかかわり、市民自治の契機づくりの場として、中学校区単位で、まちづくりについて話し合う『(a)』制度を設け、現在、3 つの中学校区すべてで実践されています。(a)に入る語は、どれですか。
- A. まちづくり協働会議 B. まちづくり円卓会議 C. まちづくり支援会議
- 問 247. 本市の市歌の作詞者は、だれですか。
- A. 中山明子 B. 中谷明子 C. 中井明子
- 問 248. 平成 6 年(1994)4 月に開館した「SAYAKA ホール(通称)」の正式名は、どれですか。
- A. 大阪狭山文化会館 B. 大阪狭山市文化会館 C. 大阪狭山市立文化会館
- 問 249. 本市の南の端に位置する大野地区では、丘陵地を活用して現在、40 戸ちかくの農家が、本市特産の「大野ぶどう」を栽培し、産地直売で販売しています。さて、大野ぶどうは、栽培が始まってから何年ほどになりますか。
- A. 約 100 年 B. 約 60 年 C. 約 30 年
- 問 250. 「平成の改修」にともない、「重源の狭山池改修碑」が石棺材とともに発見されました

- が、碑はどこから発見されましたか。
- A. 中樋東側遺構から B. 西樋東側遺構から C. 東樋東側遺構から
- 問 251. 本市が市制をしいた年に、市制記念実行委員会によりタイムカプセルが埋設されました。市制 50 周年開封予定ですが、これは何年ですか。
- A. 2027 年 B. 2037 年 C. 2047 年
- 問 252. 日本の伝統的な墓には単墓制（死者を埋葬した場所に墓碑を建て、そこを祀りの場とする）と両墓制（埋葬した場所はそのままにして、別の場所に祀りの場としての墓を建てる）があります。本市には両墓制が残る地区がありますが、どこですか。
- A. 半田、川向 B. 池尻、東野 C. 今熊、茱萸木
- 問 253. 明治末期、「一村一社」が奨励され、神社合祀が盛んに行われました。7 つの神社があった狭山村では、明治 42 年（1909）に狭間神社・宇賀美多麻社・狭山堤神社・八雲神社の 4 社は狭山神社へ、東野の大歳神社は、隣接する平尾村（堺市美原区）の菅生神社へ合祀され、池尻の葛西神社は「廢社」となりました（ただし「葛西社」としてその後も存続）。9 つの神社があった三都村では、当初、茱萸木八幡宮に合祀する予定でしたが、明治 40 年（1907）に 8 社が（ a ）へ合祀され、（ a ）は村名を冠して「三都神社」と改称されました。（ a ）に入る語は、どれですか。
- A. 三所権現社 B. 今熊熊野神社 C. 今熊八幡宮
- 問 254. 堺から高野山へ向かう西高野街道には、1 里（約 4 km）ごとに道標が 13 本建っています。江戸時代の安政 4 年（1857）、茱萸木村（茱萸木）に住んでいた二人の人が、多くの人びとに寄付を呼びかけて建てたものです。この二人の名前はどれですか。
- A. 太左衛門と五兵衛 B. 小左衛門と五兵衛 C. 甚左衛門と五兵衛
- 問 255. 本市にある南海高野線の 3 つの駅を、開業の早い駅から順に並べるとき、正しいものはどれですか。ただし、大阪狭山市駅の開業当初の名前は、河内半田駅でした。
- A. 狭山-大阪狭山市-金剛 B. 大阪狭山市-狭山-金剛 C. 金剛-狭山-大阪狭山市
- 問 256. 明治になり、本市は狭山村と三都村の 2 つに分けられました。さて、「三都」の名前の由来は、どれですか。
- A. 明治の初めのことながら、その由来はわかっていない。
B. 中心に三都神社があったので、村の名を三都村とした。
C. 産土神が三所権現で、三所を三都といいかえて、三都村とした。
- 問 257. 「環境都市宣言」など、本市がかかげる都市宣言は、いくつですか。
- A. 3 つ B. 5 つ C. 7 つ
- 問 258. 「花と緑の広場」や「青少年野外活動広場」がある「市民ふれあいの里」は、温室、リス園、キャンプ場、冒険広場などを備えた楽しい市民の憩いの場所になっています。この施設の中学生以上の使用料はいくらですか。
- A. 日帰り 100 円、宿泊 200 円 B. 日帰り 200 円、宿泊 400 円
C. 日帰り 300 円、宿泊 600 円
- 問 259 狭山神社や狭山堤神社の名が見える、平安時代の古い記録は、どれですか。
- A. 延喜式 B. 続日本紀 C. 類聚国史
- 問 260. 「重源狭山池改修碑」に記されている、重源による工事期間は、どれですか。
- A. 約 1 か月半 B. 約 2 か月半 C. 約 1 年半
- 問 261. 江戸時代になってできた村は、西山のほか、どれですか。
- A. 東野・今熊・池尻 B. 山本・岩室・茱萸木 C. 山本・茱萸木・大野
- 問 262. 国の重要文化財「絹本著色釈迦如来及四菩薩像」の掛け軸がある寺は、どれですか。
- A. 風輪寺 B. 西迎寺 C. 西福寺
- 問 263. 市内には、「狭山第 2 公園」などの小さな街区公園が、およそいくつありますか。
- A. 約 20 か所 B. 約 40 か所 C. 約 80 か所

問 264. 元和元年（1616）に、池尻村に初めて陣屋を構えた狭山藩主は、だれですか。

- A. 北条氏盛
- B. 北条氏信
- C. 北条氏治

問 265. 享和元年（1801）発行の「河内名所図会」に紹介された狭山池の名産は、何ですか。

- A. 諸子（モロコ）
- B. 蓴菜（ジュンサイ）
- C. 雑魚（ごこ）



問題：これは、何を表すエンブレムでしょうか？

答：姉妹都市（米国オレゴン州オンタリオ市）のエンブレムで、「オンタリオはオレゴン州が始まる」と記しています。

さやま検定の過去問題 解答

問 1	A	問 2	C	問 3	A	問 4	C	問 5	B
問 6	C	問 7	B	問 8	C	問 9	A	問 10	A
問 11	B	問 12	B	問 13	A	問 14	C	問 15	A
問 16	B	問 17	C	問 18	B	問 19	A	問 20	B
問 21	C	問 22	A	問 23	B	問 24	B	問 25	A
問 26	A	問 27	B	問 28	C	問 29	B	問 30	A
問 31	A	問 32	B	問 33	A	問 34	B	問 35	C
問 36	B	問 37	C	問 38	A	問 39	B	問 40	A
問 41	C	問 42	C	問 43	B	問 44	A	問 45	B
問 46	C	問 47	A	問 48	B	問 49	B	問 50	C
問 51	B	問 52	C	問 53	C	問 54	B	問 55	A
問 56	B	問 57	C	問 58	B	問 59	B	問 60	C
問 61	B	問 62	B	問 63	A	問 64	A	問 65	C
問 66	B	問 67	C	問 68	B	問 69	A	問 70	C
問 71	A	問 72	C	問 73	B	問 74	A	問 75	B
問 76	B	問 77	A	問 78	C	問 79	B	問 80	B
問 81	B	問 82	C	問 83	C	問 84	B	問 85	A
問 86	C	問 87	B	問 88	A	問 89	A	問 90	C
問 91	A	問 92	C	問 93	A	問 94	B	問 95	A
問 96	C	問 97	B	問 98	B	問 99	A	問 100	B
問 101	A	問 102	C	問 103	A	問 104	B	問 105	A
問 106	B	問 107	B	問 108	A	問 109	C	問 110	C

問 111	C	問 112	A	問 113	A	問 114	B	問 115	B
問 116	C	問 117	C	問 118	B	問 119	C	問 120	A
問 121	C	問 122	A	問 123	C	問 124	B	問 125	B
問 126	C	問 127	A	問 128	B	問 129	C	問 130	B
問 131	A	問 132	B	問 133	A	問 134	C	問 135	B
問 136	B	問 137	C	問 138	C	問 139	B	問 140	C
問 141	B	問 142	C	問 143	B	問 144	A	問 145	B
問 146	B	問 147	C	問 148	B	問 149	A	問 150	A
問 151	B	問 152	B	問 153	B	問 154	A	問 155	B
問 156	A	問 157	C	問 158	A	問 159	A	問 160	C
問 161	B	問 162	B	問 163	C	問 164	A	問 165	B
問 166	C	問 167	B	問 168	B	問 169	B	問 170	B
問 171	C	問 172	C	問 173	A	問 174	A	問 175	B
問 176	C	問 177	A	問 178	B	問 179	C	問 180	A
問 181	C	問 182	B	問 183	A	問 184	B	問 185	B
問 186	A	問 187	C	問 188	A	問 189	C	問 190	C
問 191	B	問 192	A	問 193	C	問 194	B	問 195	C
問 196	C	問 197	B	問 198	A	問 199	C	問 200	C
問 201	B	問 202	B	問 203	C	問 204	B	問 205	A
問 206	B	問 207	B	問 208	A	問 209	C	問 210	A
問 211	C	問 212	B	問 213	A	問 214	C	問 215	A
問 216	B	問 217	B	問 218	C	問 219	A	問 220	C
問 221	C	問 222	B	問 223	C	問 224	C	問 225	A
問 226	A	問 227	C	問 228	B	問 229	A	問 230	A
問 231	C	問 232	A	問 233	C	問 234	B	問 235	C
問 236	A	問 237	A	問 238	B	問 239	A	問 240	C
問 241	B	問 242	A	問 243	B	問 244	A	問 245	C
問 246	B	問 247	C	問 248	B	問 249	A	問 250	A
問 251	B	問 252	C	問 253	B	問 254	B	問 255	A

問 256	A	問 257	C	問 258	B	問 259	A	問 260	B
問 261	C	問 262	A	問 263	C	問 264	B	問 265	B



問題：大阪狭山市内の、どこの写真でしょうか？

答：「一の木」の分水点。東野中三丁目で、字名を「一の木」といい、大鳥池からの用水が、ここで北代筋・大川筋・2本の宮の前（宮脇）筋、計4本に分流され、下流の田に注いでいます。各水門の礎石の配置（水路幅）は、下

狭山池まつり実行委員会 こども教育部会主催