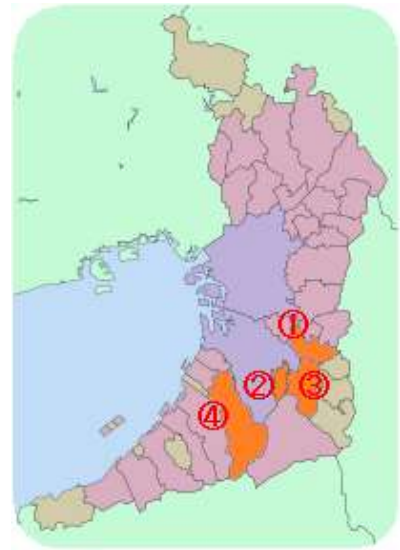


親子さやま検定 子ども用
Osakasayama Quiz

第1問

おおさかさやまし ばしよ みぎ おおさかふ ちす
大阪狭山市の場所は、右の大阪府の地図のなかのどれですか？


- A ①
- B ②
- C ③
- D ④



第2問

おおさかさやまし ししょう
大阪狭山市の市章（シンボルマーク）はどれですか？

- A ①
- B ②
- C ③
- D ④



第3問

おおさかさやまし めんせき
大阪狭山市の面積は、どれですか？

- A ○ 約12平方キロメートル (km²)
- B ○ 約22平方キロメートル (km²)
- C ○ 約32平方キロメートル (km²)
- D ○ 約42平方キロメートル (km²)

ちゅう 注：1平方キロメートルは、1辺が1km
の正方形の面積に相当します。



第4問

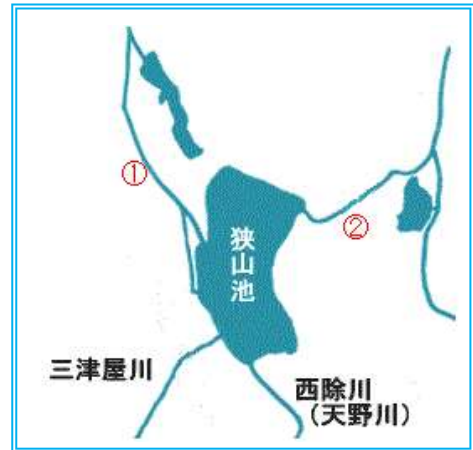
え どじだい 江戸時代まで、大阪府は摂津国、河内国、
和泉国という3つの国に分かれていまし
た。大阪狭山市は、どの国に入っていまし
たか？

- A ○ 摂津国
- B ○ 河内国
- C ○ 和泉国
- D ○ 大和国



第5問

狭山池には、河内長野市の天野山から流れる西除川（旧天野川）と狭山ニュータウンから流れる三津屋川の2つの川が流れ込んでいます。それでは、狭山池から流れ出す2つの川、①と②の名前はそれぞれ何ですか？



- A ○ ①が西除川 ②が東除川
- B ○ ①が東除川 ②が西除川
- C ○ ①が石川 ②が大和川
- D ○ ①が大和川 ②が石川

第6問

「狭山池」の名前が初めて出てくる奈良時代の歴史書の名前は何か？



- A ○ 古事記
- B ○ 日本書紀
- C ○ 続日本紀
- D ○ 万葉集



第7問

おおさかさやまし き ①と、おおさかさやまし はな き
大阪狭山市の木①と、大阪狭山市の花②が決めら
れています。①と②の組みあわせで正しいものは
どれですか？

- A ○ ① さくら ② つつじ
B ○ ① うめ ② さざんか
C ○ ① さくら ② さざんか
D ○ ① うめ ② つつじ



第8問

おおさかさやまし さやま いみ
大阪狭山市の「狭山」には、どういう意味があります
か？

- A ○ さやま やま おおさかさやまし なんぶ
狭山という山が大阪狭山市の南部にある。
B ○ さやま ちい やま いみ どうきやま
狭山は小さい山の意味で、陶器山のことである。
C ○ はば せま やま いみ どうきやま
幅の狭い山という意味で、陶器山のことである。
D ○ なだらかな山や丘に両側からはさまれた、な
がめのよいさわやかな土地という意味である。



第9問

2016年は、狭山池が築造されてから
およそ何年になりますか？

- A ○ 400年
B ○ 1000年
C ○ 1400年
D ○ 2016年



第10問

平成の大改修の時に、狭山池の北堤の東の方
で、大きな木で作られた樋管が発見されまし
た。この木を調べると、西暦616年に切り倒さ
れたことがわかりました。このことから、狭山
池は西暦616年ごろに築造されたと推測されま
す。それでは、この木の何を調べて切り倒され
た年代を判定しましたか？



- A ○ 花粉を調べた。
B ○ 年輪を調べた。
C ○ 放射性炭素を調べた。
D ○ 種を調べた。

第11問

第10問の写真の狭山池築造当初に使われていた樋管は、木でできています。その木は何の木ですか？



- A ○ コウヤマキ
- B ○ ヒノキ
- C ○ マツ
- D ○ スギ

第12問

狭山池の北堤では、飛鳥時代の築造や奈良時代の改修の時に、どのような工法が使われましたか？



- A ○ 頭大の石を何層にも並べる敷石工法
- B ○ 土と葉のついた小枝を敷き並べた層を交互に何層にも積み重ねる敷葉工法
- C ○ 木で枠をつくり土砂を中に入れる木製枠工法
- D ○ 木の柱を何本も縦に打ち込む杭打ち工法



第13問

狭山池をまわってウォーキングを楽しむ人がおおぜいいます。狭山池の周遊路の長さは、どれくらいありますか？

- A ○ 28.5m (メートル)
- B ○ 285m (メートル)
- C ○ 2850m (メートル)
- D ○ 28500m (メートル)



第14問

狭山堤神社は狭山池を守る神社で、祭神は印色入日子命です。明治時代までは、狭山池の東側（現在のさやか公園の中）の明神山にありましたが、今は、別の場所に移されています。どこに移されていますか？

- A ○ 池之原神社の境内
- B ○ 狭山神社の境内
- C ○ 三都神社の境内
- D ○ さやか公園の入り口付近にある水天宮の敷地内




第15問

はんた ちようめ さやましんじや さやま もっと ふる
 半田1丁目にある狭山神社は、狭山で最も古
 い神社です。いつ創建されたかは不明ですが、
 さやまいけ ちくそう ふる せつ
 狭山池の築造よりも古いという説もあります。
 しかし、へいあんじだい (794~1185/1192)
 には神社があったことが、ふる きろく につ
 いて古い記録にのっ
 ています。この記録は何ですか？



- A ○ えんぎしき
 延喜式
- C ○ ふうどき
 風土記

- B ○ にほんしよき
 日本書紀
- D ○ こごしゆい
 古語拾遺



第16問

ならじだい かつやく みぎ そう ほう しょうむ
 奈良時代に活躍した右の僧（お坊さん）は、聖武
 てんのう きようりよく どうだいし だいぶつ さんか
 天皇に協力して東大寺の大仏づくりに参加しまし
 た。さやまいけ しゅうへん さやまいけいん にいん た てんびよう
 狭山池の周辺に狭山池院・尼院を建て、天平
 ねん (731) には、さやまいけ かいしゅう とく
 3年(731)には、狭山池の改修にも取り組みまし
 た。この僧はだれですか？



- A ○ くわかい (こうほうだいし)
 空海 (弘法大師)

- B ○ がんじん
 鑑真

- C ○ さいちよう (てんぎようだいし)
 最澄 (伝教大師)

- D ○ ぎようき
 行基

第17問

鎌倉時代のはじめ、建仁2年（1202）に、東大寺の僧重源が狭山池の改修をしました。この工事で重源が用いたユニークなものは何ですか？



- A ○ 木棺（木製の棺桶）
- B ○ 木造船の廃材
- C ○ 石棺（石製の棺桶）
- D ○ アラカシの葉のついた枝

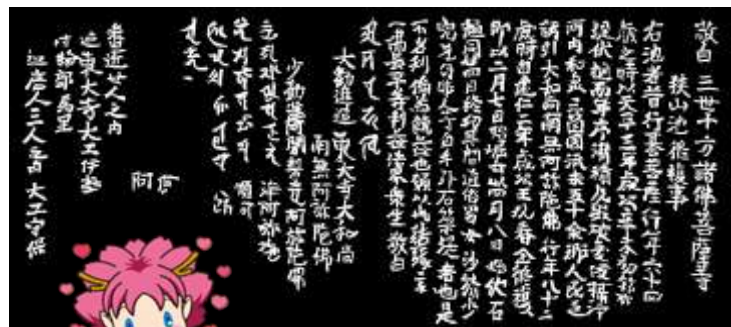


第18問

「重源狭山池改修碑」には、重源が狭山池を改修するのにかけた期間や、工事にかかわった人たちの名前が刻まれています。さて、工事にかけた期間は、どれほどだったと記されていますか？



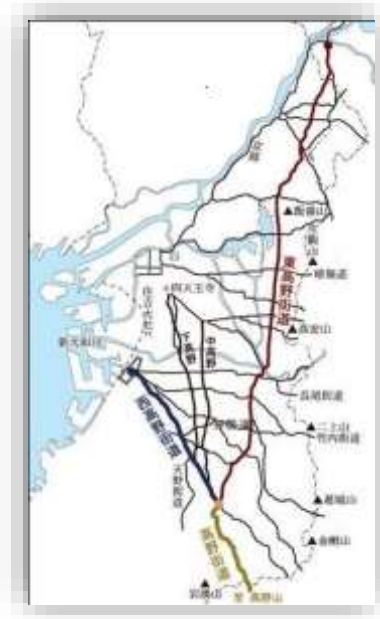
- A ○ 約1 か月半
- B ○ 約2 か月半
- C ○ 約1 年半
- D ○ 約2 年半



第19問

おおさかさやましない
大阪狭山市内には、たくさんひとひとの人々が行き交った、古い道い かが通ふるっています。次つきの
記述きじゆつのうち、最もっとも正ただしいのはどれですか？

- A ○ 東高野街道ひがしこうやかいどうが通とおっている。
- B ○ 西、中、下の3つの高野街道にし なか しも こうやかいどうが通とおっている。
- C ○ 西高野街道にしこうやかいどうと天野街道あまのかいどうの2つが通とおっている。
- D ○ 西・中・下の3つの高野街道にし なか しも こうやかいどうと天野街道あまのかいどう・
伊勢道いせみちの計5つが通とおっている。



第20問

みぎ
右は、今熊7丁目にある大阪狭山市
を通る2つの街道かいどうの分かれ道わかれみちの
写真しゃしんです。何街道なにかいどうと何街道なにかいどうの分かれ道わかれみちですか？

- A ○ 中高野街道なかこうやかいどうと下高野街道しもこうやかいどう
- B ○ 西高野街道にしこうやかいどうと下高野街道しもこうやかいどう
- C ○ 伊勢道いせみちと中高野街道なかこうやかいどう
- D ○ 西高野街道にしこうやかいどうと天野街道あまのかいどう



第21問

さいかい こうやさん む にしこうや かいどう り
 堺から高野山へ向かう西高野街道には、1里
 (約4km) ごとに道標(町石)が13本建
 っています。江戸時代末に茱萸木村(現在の
 くみのき こざえもん ごへえ ふたり よ
 茱萸木)の小左衛門と五兵衛の二人が呼びか
 けて建てました。大阪狭山市内には、13本の
 ちょういし おおさかさやましない ほん
 町石のうち、どこに何本が建っていますか?



- A ○ いわむろ くみのき ごうけい2ほんた
 岩室と茱萸木に合計2本建っている。
- B ○ やまもと いまくま ごうけい ほんた
 山本と今熊に合計2本建っている。
- C ○ やまもと いまくま くみのき ごうけい ほんた
 山本、今熊、茱萸木に合計3本建っている。
- D ○ やまもと いわむろ くみのき ごうけい ほんた
 山本、岩室、茱萸木に合計3本建っている。




第22問

みぎ なんかいでんきてつどうこうやせん こんごうえき
 右は、南海電気鉄道高野線の、①金剛駅、
 たきだにえき さやまえき おおさかさやましえき
 ②滝谷駅、③狭山駅、④大阪狭山市駅の
 しゃしん おおさかさやまし
 写真です。これらのうち、大阪狭山市には
 ないえき
 ない駅はどれですか?



- A ○ ①金剛駅
- B ○ ②滝谷駅
- C ○ ③狭山駅
- D ○ ④大阪狭山市駅



第23問

平成^{へいせい}29^{ねん}年（2017）は、大阪狭山^{おおさか さやま}市^しが「市」になってから何年^{なんねん}になりますか？

- A ○ 20^{ねん}年
 B ○ 30^{ねん}年
 C ○ 40^{ねん}年
 D ○ 50^{ねん}年



第24問

大阪狭山^{おおさか さやま}市^しは、平成^{へいせい}29^{ねん}年（2017）に、オンタリオ^{おんたりお}市^しと姉妹都市提携^{しまいとし ていけい}43^{ねん}年^{むか}を迎^まえます。毎年^{まいとし}、学生^{がくせい}を派遣^{はけん}するなど、市民^{しみん}の交^{こう}流^{りゅう}がおこなわれています。オンタリオ^{おんたりお}市^しは、どこにある市^しですか？

- A ○ アメリカ、ニューヨーク^{しゅう}州^{しゅう}のオンタリオ湖^こ（五大湖^{こだいこ}の一つ）の東^{ひがし}にある市^し
 B ○ カナダ、オンタリオ^{しゅう}州^{しゅう}の東^{ひがし}にある首都^{しゅと}の市^し
 C ○ アメリカ、オレゴン^{しゅう}州^{しゅう}の東端^{とうたん}に位置^{いち}する市^し
 D ○ アメリカ、カリフォルニア^{しゅう}州^{しゅう}のロスアンゼルス^{ろすあんぜるす}の東^{ひがし}にある市^し



第25問

おおさか 府立 狭山池 博物館の 南側 入り口 付近に、大阪
 さやまし の 名誉 市民・末永 雅雄 博士の 銅像が ありま
 す。末永 博士は、考古 学者として 初めて、何を
 受章 されましたか？


- A ○ 文化勲章 B ○ 紫綬褒章
 C ○ 旭日大綬章 D ○ 直木賞



第26問

末永 雅雄 博士が、日本で 初めて 考古学 の 調査に 使
 った ユニークな 方法は、どれ ですか？

- A ○ 樹木の年輪による年代の測定
 B ○ 花粉による年代の測定
 C ○ 航空機を使った空からの古墳観察
 D ○ 植物珪酸体（プラント・オパール）を
 分析し、古代の農業の様子を研究



第27問

さやま とのさま ほうじょうし いま さやまはん
 狭山の殿様は北条氏でしたが、今では、狭山藩
 の建物は何も残っていません。ただ、陣屋の大手
 もんだけが、ある寺院に残されています。大手門は
 どの寺院に残されていますか？

- A ○ さかいし にしほんがんにさかいべついに おなりもん
 堺市の西本願寺 堺別院の御成門として
- B ○ さかいし なんしゅうじ せいもん
 堺市の南宗寺の正門として
- C ○ さかいし みょうこくじ きだもん
 堺市の妙国寺の北門として
- D ○ さかいし きっしょういん にしもん
 堺市の吉祥院の西門として



第28問

え どじだい さやま だいひょう さやまはん はん
 江戸時代の狭山を代表する狭山藩は、版
 籍奉還（藩主が支配していた土地と人民
 を朝廷に返すこと）まで、何代まで、そ
 して何年続きましたか？

- A ○ 10代、約270年続いた。
- B ○ 12代、約270年続いた。
- C ○ 10代、約320年続いた。
- D ○ 12代、約320年続いた。




第29問

狭山池に流れ込んでいる西除川の旧河川流路
 ではホタルの保護活動がおこなわれています。
 そのホタルの種類は、どれですか？



- A ○ ヒメボタル B ○ ゲンジボタル
 C ○ ヘイケボタル D ○ ツチボタル



第30問

鎌倉時代に重源が樋の修理に
 利用した石棺を、江戸時代に
 護岸のために再度利用して狭
 山池の修理をした人は、だれ
 ですか？

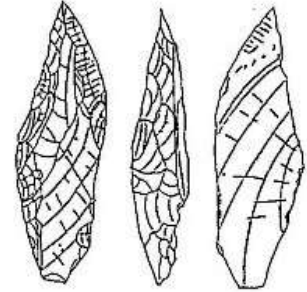


- A ○ 安見美作守宗房
 B ○ 北条氏直
 C ○ 小堀遠州
 D ○ 片桐且元



第31問

つぎ きじゆつ うちの、ただ 正しいものはどれですか？



- A ○ 大阪狭山市域では、旧石器は見つかっていない。
- B ○ 副池から、銅鐸が1個発見されている。
- C ○ 寺ヶ池の周囲には、縄文時代の大きな集落が3つ発見されている。
- D ○ 東野で採集されたサヌカイト製のナイフ型石器は、旧石器である。

第32問

平成6年（1994）に、大阪狭山市が
人々から名前を募集して、市内の道路
には愛称（ニックネーム）がつけら
れました。全部で4つありますが、ま
ちがっているのはどれですか？



- A ○ さやか通り
- B ○ さくら通り
- C ○ 狭山池通り
- D ○ 陶器山通り



第33問

平安時代にはたくさんの古典が書かれました。そのなかで、「さ山の池」という名前が登場する古典はどれですか？

- A ○ 伊勢物語
- B ○ 蜻蛉日記
- C ○ 源氏物語
- D ○ 枕草子



第34問

大阪狭山市を管轄するのは、大阪府のどの警察署ですか？

- A ○ 南堺警察署
- B ○ 河内長野警察署
- C ○ 黒山警察署
- D ○ 和泉警察署



第35問

げんざい おおさかさやまし しょうがっこう ちゅうがっこう
 現在、大阪狭山市には、小学校と中
 がっこう 学校が、それぞれ何校ありますか？

- A ○ しょうがっこう 5校、ちゅうがっこう 2校
 B ○ しょうがっこう 6校、ちゅうがっこう 2校
 C ○ しょうがっこう 7校、ちゅうがっこう 3校
 D ○ しょうがっこう 8校、ちゅうがっこう 3校



第36問

おおさかさやまし
 大阪狭山市のマスコットキャラクター
 は、どれですか？

- A ○ さやりん
 B ○ くまもん
 C ○ せんとくん
 D ○ ふなっしー



第37問

ぎょうき かいしゅう ねんご てんびょうほうじ ねん
 行基の改修の31年後の天平宝字6年
 (762)に、狭山池の改修がおこな
 われ、それまでの堤をさらに高くし、
 ちよすいりょう も ばい かい
 貯水量も2倍になりました。この改
 しゅう とき どういん ひと かす の
 修の時に、動員された人の数は延べ
 なんにん
 何人でしたか？



- A ○ 3000人
 C ○ 23000人

- B ○ 23000人
 D ○ 83000人

第38問

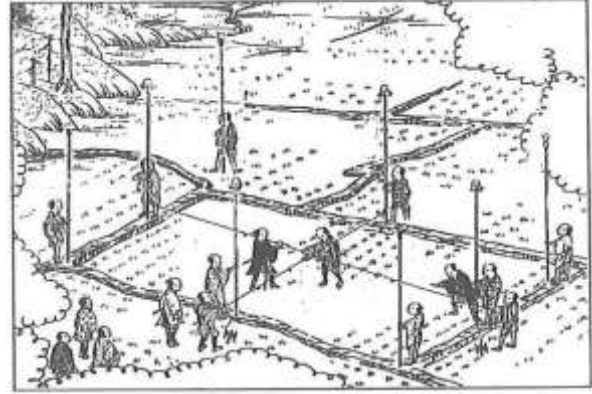
おおさかさやましえき せいほう ほうおんじ
 大阪狭山市駅から西方の報恩寺へ
 つつ みち りょうがわ まちな えど
 続く道の両側の町並みは、江戸
 じだい はじめ さやまいけ しゅうりこ さ
 時代はじめ、狭山池の修理後に狭
 やまいけ ひやくにん お
 山池の樋役人を置くためにつくら
 れました。そこは何と呼ばれてい
 ましたか？



- A ○ 神田
 C ○ 新橋
 B ○ 台場
 D ○ 新宿

第39問

てんしょう ねん ねん
 天正 10年 (1582) から 10年をか
 ねんく ぜい あつ とち
 け、年貢 (税) を集めるために、土地
 ちようさ さやま ひでよし か
 調査をしました。狭山にも、秀吉の家
 しん き むら たはた ひろ しゅうかく
 臣が来て、村ごとの田畑の広さや収 穫
 だか しら けんちよう きろく
 高を調べて、「検地帳」に記録しまし
 た。このことを何といいますか？



- A ○ 太閤検地
 B ○ 豊臣検地
 C ○ 伏見検地
 D ○ 土地作付調べ

第40問

きんせい あづちもちやま え どしだい おおさかさやま
 近世 (安土桃山・江戸時代) には、大阪狭山
 しいき むら ひがしのむら
 市域には 9 つの村があり、そのうち東野村・
 いけじりむら はんだむら いわむらむら いまくまむら ちゅうせい かま
 池尻村・半田村・岩室村・今熊村は中世 (鎌
 くら むろまち じだい そんざい むら おさ
 倉・室町時代) から存在しました。村を治め
 る領主は村ごとにちがいました。上記のう
 ち、1700年ころまで北条氏の治める狭山藩
 りよう 領はどこでしたか？



- A ○ 東野村・池尻村・半田村
 B ○ 池尻村・半田村・岩室村
 C ○ 半田村・岩室村・今熊村
 D ○ 岩室村・今熊村・池尻村

第41問

1854年正月、第十一代藩主の北条氏
 燕の時代に、狭山藩に学校（藩校）が
 できました。国語や習字、武術を習
 いました。さて、この藩校の名前
 は何ですか。



- A ○ 弘道館
 B ○ 明倫館
 C ○ 簡修館
 D ○ 松下村塾

第42問

江戸時代の庶民のこどもは、塾
 に通って「読み・書き・ソロバ
 ン」を習いました。狭山には8
 つの塾がありました。これらの
 塾のことを、一般的に何とい
 いましたか？



- A ○ 寺子屋
 B ○ 手習所
 C ○ 学問所
 D ○ 小学校



第43問

文久3年（1863）の夏、幕府を倒そうと武器を手にした天誅組の軍勢が堺から富田林、そして奈良へ向かう途中、狭山藩の陣屋に立ち寄りました。家老たちは、天誅組が滞在していたお寺に行き、武器を与えましたが、後に天誅組を倒す軍に加わりません。天誅組が滞在していたお寺は、どれですか？



- A ○ 報恩寺
B ○ 風輪寺
C ○ 西福寺
D ○ 極楽寺



第44問

現在の大阪狭山市の人口は、おおよそ何人ですか？

- A ○ 5800人
B ○ 28000人
C ○ 58000人
D ○ 280000人



第45問

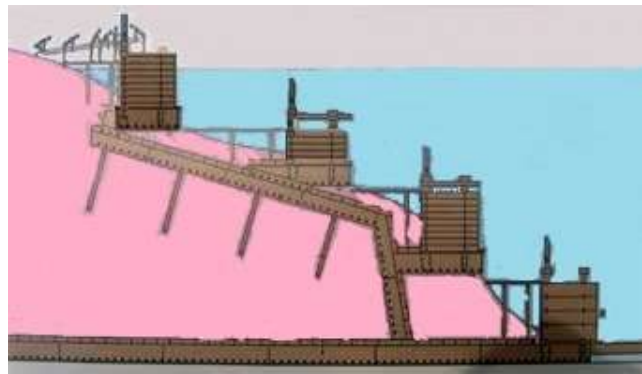
江戸時代の初めごろから、狭山では野原を切り開き、新田と呼ばれる新しく開発された村がいくつかできました。東野・池尻・山本・岩室・半田・今熊・西山・茱萸木・大野の9つの村のうち、江戸時代になってできた村はどれですか？

- A ○ 東野・池尻・山本・岩室
 B ○ 山本・岩室・茱萸木・西山
 C ○ 半田・西山・大野・池尻
 D ○ 山本・茱萸木・西山・大野



第46問

江戸時代の初め、片桐且元は、慶長8年(1608)に、豊臣秀頼に命じられて狭山池を改修しました。中樋と西樋には水面の高さに合わせて取水できるように、右図のような樋をつくりました。さて、このような樋を何とよびますか？



- A ○ 尺八樋 B ○ 階段樋
 C ○ 琴樋 D ○ 三味線樋



第47問

おおさかさやまし^{ない} はし^{じゆんかん}
大阪狭山市内を走る循環バス（コミュニ
ティバス）のルートはいくつあるでしょ
うか？ また^{おとなひとり} 大人1人の^{りようきん} 料金は1回の^{かい}
^{じようしゃ} 乗車につき、いくらですか？



- A ○ 2ルート・100^{えん}円
C ○ 2ルート・200^{えん}円

- B ○ 3ルート・100^{えん}円
D ○ 3ルート・200^{えん}円

第48問

おおさかさやまし^{とくさんのうさんぶつ}
大阪狭山市の特産農産物
は、どれですか？

- A ○ ミカン
B ○ ナシ
C ○ ブドウ
D ○ モモ



第49問

明治22年（1889）に、市制・町村制が施行され、東野・池尻・半田の3か村は狭山村になりました。残りの岩室・今熊・山本新田・栗莢木新田・西山新田・大野新田の6か村は何という村になりましたか？



- A ○ 今熊村
- B ○ 岩室村
- C ○ 三都村
- D ○ 西山村

第50問

昭和20年（1945）8月15日、日本は敗戦し、その6年後の昭和26年（1951）に、狭山村は町制を施行し、南河内郡狭山町となりました。昭和26年ごろの狭山町の人口はどれほどでしたか？



- A ○ 10000人より少なかった
- B ○ 約15000人
- C ○ 約20000人
- D ○ 約40000人

第51問

明治22年（1889）に、狭山村と三都村の2つの村が
 できましたが、40年後の昭和6年（1931）6月16日
 に、2つの村は合併して新たに1つの村になりました。
 何という村になりましたか？

- A ○ 今熊村
 B ○ 岩室村
 C ○ 三都村
 D ○ 狭山村



第52問

これらは、何の写真ですか？

- A ○ 狭山池クリーンアクションの参加賞
 B ○ マンホールの蓋
 C ○ 勲章
 D ○ 記念バッジ



第53問

さやまいけせいほく ていぼう ちよう
狭山池西北の堤防に「バタフライ・ガーデン 蝶の
もり」があります。このもりは、へいせい ねん (2005)
にぜつめつ きぐしゆ ちよう はっけん
に絶滅危惧種のある蝶が発見されたのがきっかけ
でつくられました。その蝶とはどれですか？

- A ○ アカタテハ
B ○ ツマグロヒョウモン
C ○ アオスジアゲハ
D ○ シルビアシジミ



第54問

みぎ しゃしん おおさかさやましはんだ なか
右の写真は、大阪狭山市半田の中
こうやかいどうぞ た ゆうすうねんぶつしゆう
高野街道沿いに建つ、融通念佛宗
のお寺です。山号を慈光山とい
くに じゅうようぶん かざい してい
い、国の重要文化財に指定された
けんほんちゃくしよくしゃかによらいおびし ほさつ
「絹本 著色 釈迦如来及四菩薩
像」の掛け軸があります。この寺
は、どれですか？



- A ○ 西迎寺
B ○ 極楽寺
C ○ 西福寺
D ○ 風輪寺

第55問

右は、池尻中にある池尻の氏神です。かつては牛頭天王社とよばれていました。この手水鉢は、狭山藩士の氏子が寄進したものです。また、六角形の釣灯笼には、狭山藩北条氏の家紋の三つ鱗が切り抜かれています。この神社は、どれですか？



- A ○ はざまじんじや 狭間神社
 B ○ いなりじんじや 稲荷神社
 C ○ おおひらだいみょうじん 大平大明神
 D ○ くみのきはちまんぐう 茱萸木八幡宮

第56問

右は、市立老人福祉センター「さやま荘」の近くの「おわり坂交差点」から見た、今熊の「おわり坂」です。「おわり」の由来は何ですか？



- A ○ なかこうやかいどう お ちか ゆらい 中高野街道も「終わりに近い」ことに由来する。
 B ○ さやまいけ かいしゅうこうじ おわりしゅう ゆらい 狭山池の改修工事をした「尾張衆」に由来する。
 C ○ お わ きつね おわり でんしょう ゆらい 尾が割れた狐、「尾割」の伝承に由来する。
 D ○ もと おはり え どしだい かわちめん のぬの 縫って衣服などを作る「お針子」が多くいたことに由来する。

第57問

信号のある交差点に、「こいさか子安地藏尊」を案内する石の道標があります。石碑の左側は、「為いぬみみ須菩提也」と読めます。鋳物師だった神南辺大道心は、大やみみずの地獄に落ち、こいさか子安地藏尊に救われる夢を見ました。その後、彼は徳を積み、この石碑を寄進しました。この道標のある交差点はどこですか。



- A ○ 狭山1丁目の、報恩寺や半田郵便局、半田交番がたつ交差点
- B ○ 築木4丁目の、大師堂の前の交差点
- C ○ 岩室2丁目の、高野女人堂への町石がたつ三叉路交差点
- D ○ 大阪狭山市立南中学校北の、大野台1丁目西交差点

第58問

大阪府立狭山池博物館の設計者は、だれですか？

- A ○ 野老朝雄
- B ○ 槇文彦
- C ○ 隈研吾
- D ○ 安藤忠雄



第59問

右は昭和60年（1985）ごろの狭山ニュータウンです。狭山ニュータウンの起工式は昭和42年（1967）4月におこなわれました。その時のキャッチフレーズは、何でしたか？



- A ○ あたら たいよう おか
新しい太陽の丘
- B ○ みどり ひかり うつく まち
緑と光につつまれた美しき街
- C ○ みんなではぐくむ魅力ある街
- D ○ みどり いろど
緑に彩られたファッションブルタウン

第60問

昭和60年（1985）に狭山町は、人口が5万人を超え、市になる条件が整いました。翌年、狭山町は新しい市の名前を募集しました。いろいろな名前があがりましたが、どれが一番多かったですか？



- A ○ さやまし
- B ○ みなみおおさかし
南大阪市
- C ○ かわちさやまし
河内狭山市
- D ○ さやまいけし
狭山池市



第61問



ひだり おおさかさやましな い ふる ぶつぞう もくぞう
 左は、大阪狭山市内でもっとも古い仏像の、木造
 じゅういちめんかんのんぼさつりゅうぞう へいあんじだい なか
 十一面観音菩薩立像です。平安時代の中ごろにつ
 くられたとされ、おおさかさやまし していぶんかざい
 大阪狭山市の指定文化財になって
 います。この仏像は、どこにありますか？

- A ○ 風輪寺
 B ○ 金蔵寺
 C ○ 岩室地区
 D ○ 東池尻地区

第62問

めいじ ねん (1893) に、げんざい さかいし わ か やまけんはしもと
 明治26年(1893)に、現在の堺市から和歌山県橋本
 し むす こうやてつどう げんざい なんかいでんてつこうやせん けいかく
 市を結ぶ高野鉄道(現在の南海電鉄高野線)が計画さ
 れ、その5年後のめいじ ねん (1898) 1月におおしょうじ
 えき げんざい さかいひがしえき さやまむら えき
 駅(現在の堺東駅)から、「狭山村のある駅」の
 あいだ きしゃ はし はし さやまむら えき
 間で、汽車が走り始めました。「狭山村のある駅」
 とはどれですか？

- A ○ 狭山駅
 B ○ 大阪狭山市駅
 C ○ 金剛駅
 D ○ 狭山遊園前駅



第63問

現在、さやか公園や住宅地になっている狭山
 藩下屋敷跡地には、昭和34年（1959）から
 平成12年（2000）まで、ある施設がありま
 した。その施設とは、どれですか？



- A ○ さやま遊園
 B ○ 狭山池競艇場
 C ○ 狭山池公園
 D ○ ひらかたパーク

第64問

右は、狭山池の平成の大改修の時の写真で
 す。池底を3m深くして堤防も1m高く
 し、洪水調整機能を備えるダムになりまし
 た。また、池の周囲は公園として開放され
 ました。平成の大改修はいつから始まり、
 どれほどの期間がかかりましたか？



- A ○ 平成元年（1989）から平成9年（1997）までの、8年間
 B ○ 平成2年（1990）から平成12年（2000）までの、10年間
 C ○ 昭和63年（1988）から平成14年（2002）までの、14年間
 D ○ 昭和60年（1985）から平成17年（2005）までの、20年間

第65問

ぎょうき てんちてんのう ねん かわちのくに
 行基は天智天皇7年（668）に、河内国
 のちい すみのくに おおとりのこおりはちたのり げんざい
 （後和泉国）大鳥郡 蜂田里（現在の
 おおさかふさかいしにしく）で生まれました。たいほう
 4年（704）に、ぎょうき う いえ
 行基は生まれた家をお
 てら す さかいし いま
 寺にして、そこで住みました。堺市に今
 もあるこのお寺の名前は何ですか？



- A ○ 家原寺 B ○ 南宗寺
 C ○ 百舌鳥八幡宮 D ○ 妙国寺

第66問

げんざい おおさかさやましえき へいせい ねん さ
 現在の大阪狭山市駅は、平成12年（2000）までは狭
 やまゆうえんまええき えき たいしょう ねん
 山遊園前駅とよばれていました。この駅は、大正6年
 （1917）7月5日に、おおさかこうやてつどう さやまえき たきだにえき
 大阪高野鉄道の狭山駅と滝谷駅
 の間にしんせつ
 間に新設されたものですが、そのころの駅の名前は
 なん
 何でしたか？



- A ○ 河内狭山駅 B ○ 金剛園駅
 C ○ 河内半田駅 D ○ 池尻東駅

第67問

「^{おおさかさやまし}大阪狭山市の^{しょだいしちょう}初代市長は（①）さんで、
^{げんざい}現在の^{ふるかわてるひとしちょう}古川照人市長は（②）^{だいいめ}代目の^{しちょう}市長で
 す。」 ① と ② ^{はい}に入る人の^{ひと}名前と^{なまえ}数字の^{すうじ}組
^あみ^{ただ}合わせで、正しいのはどれですか？



- A ○ ① ^{よしかわえつじ}吉川悦次、 ② 5
- B ○ ① ^{さかたにただお}酒谷忠生、 ② 4
- C ○ ① ^{いのうえ たけし}井上 武、 ② 3
- D ○ ① ^{よしだともよし}吉田友好、 ② 5

第68問

「^{おおさかさやまし}大阪狭山市歌は^{なかいあきこ}中井明子さんが^{さくし}作詞しました。下はその一番の^{した}歌詞です。
 ① と ② ^{はい}に入る^ご語句の^く組み^あ合わせで、正しいのはどれですか？

^{こんごうさん やま}金剛山の山なみを ^{みずも}水面にうつす（①）
^{いにしえ さか}古よりも栄えきて ^{みずとりおよ えいえん}水鳥泳ぐ永遠の
^{きぼう}希望にもえる（②） ^{おおさかさやまし さか}大阪狭山市 栄えあれ



- A ○ ① ^{かぜみどり}風 緑 ② ^{あい まち}愛の街
- B ○ ① ^{さやまいけ}狭山池 ② ^{ぶんかとし}文化都市
- C ○ ① ^{た みどり}田や 緑 ② ^{あい まち}愛の街
- D ○ ① ^{さやまいけ}狭山池 ② ^{へいわとし}平和都市



第69問

さやまいけ ちばん とち ばんごう は、どれがただ正しいですか？

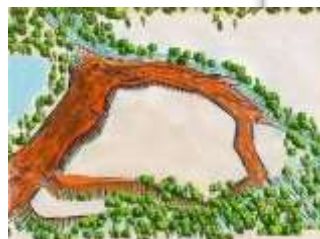
- A ○ おおさかさやましさを大阪狭山市狭山1402-1 ほか
- B ○ おおさかさやましはんだ大阪狭山市半田1402-1 ほか
- C ○ おおさかさやましいけじりなか大阪狭山市池尻中1402-1 ほか
- D ○ おおさかさやましいわむろ大阪狭山市岩室1402-1 ほか



第70問

なんほくちょうじだい には、さやまいけ きたがわ しろ のあたりで、かまくらばくふくんとくすのきぎくんとあいだ げきせんがくりひろげられました。さやまいけ きたがわ の北側にあったしろ なまえ なん 城の名前は、何でしたか？

- A ○ はんだじょう半田城
- B ○ いけじりじょう池尻城
- C ○ の だ じょう野田城
- D ○ さやまじょう狭山城



第71問

平成12年（2000）に遊園地の「さやま
遊園」が閉園し、跡地の一部は、現在、
防災公園になっています。何という名の、
防災公園ですか？

- A ○ さやま公園
- B ○ さやりん公園
- C ○ さやね公園
- D ○ さやか公園



第72問

大阪狭山市は、昭和62年（1987）に誕生しました。
大阪府のなかでは第32番目の市でしたが、全国では第
何番目の市でしたか？

- A ○ 456番目
- B ○ 465番目
- C ○ 546番目
- D ○ 654番目

1987
654
32



第13問

おおさかさやまし から いすみし にかけての せんぼく
 大阪狭山市 から 和泉市 にかけての 泉北
 きゅうりょう いったい では、さかいし せんぼく
 丘陵 の一帯では、堺市の 泉北ニュータウ
 ちいき ちゅうしん に、はいいろ かた とき せいざん
 ン地域を 中心に、灰色で硬い土器を生産し
 かまあと かくにん されています。その だいぶぶん
 た窯跡が 確認されています。その大部分は
 こふんじだい のものです。これらの とき なる
 古墳時代のものです。これらの土器は、何と
 よばれていますか？



- A ○ じょうもん とき 縄文土器 B ○ やよい とき 弥生土器
 C ○ はしき 土師器 D ○ すえき 須恵器



第14問

さやまいけ おおさか ぶりつ さやまいけはくぶつ
 狭山池 や、大阪府立狭山池博物
 かん しゅうい う さくら
 館の周囲に 植えられている 桜
 は、おもにどれですか？



- A ○ ソメイヨシノ
 B ○ コシノヒガン
 C ○ カンヒザクラ
 D ○ ヤマザクラ



第75問

へいあんまつき かまくらしだい ふたい さやまいけ ちか う
 平安末期から鎌倉時代を舞台に、狭山池の近くで生
 まれた少年、小松の、狭山池の修復に命をかける
 じんせい えが そうさくれきしものがたり 「みなそこ ひつぎ さくしゅ
 人生を描いた創作歴史物語『水底の棺』の作者は
 だれですか？ おもしろいよ！

- A ○ 草野あきこ B ○ いたうみく
 C ○ さいとう りん D ○ 中川なをみ



第76問

せんぼく さやま あいだ よこ どうきやまふ きん こうほうだいし
 泉北ニュータウンと狭山ニュータウンの間に横たわる陶器山付近には弘法大師に
 まつわるでんせつ どうきやまななふ しぎ よ いま ぼしょ かくにん
 まつわる伝説があり、「陶器山七不思議」と呼んでいます。今ではその場所を確認
 することはできませんが、①千畳敷、②黄金塚、③梵字が芝(原)、④笹無山、⑤
 ねね かたち
 船の形などがあります。さて、あとの2つは、どれですか？

- A ○ じごく あな つめか いし
 B ○ ねこざか だいしい ど
 C ○ くわす いち ゆ いし
 D ○ ねざさ かめよびば



第77問

大正13年（1924）に、干ばつで狭山池の水が干上がったのをきっかけに、大正15年（1926）から昭和6年（1931）にかけて、狭山池「昭和の改修」工事がおこなわれました。次のうち、この工事でしなかったことは、どれですか？

- A ○ 鉄筋コンクリート製の取水塔をつくった
- B ○ 第二狭山池（副池）をつくった
- C ○ 池底の土を2m、池全体で掘りさげた
- D ○ 東西の除（水はけ口）やおもな水路を改修した



第78問

平成27年（2015）3月10日、狭山池があるものに指定されました。何に指定されましたか？

- A ○ 国の史跡
- B ○ 国の重要文化財
- C ○ 大阪府の史跡名勝
- D ○ 「東アジア古代水利灌漑施設」として世界遺産



第 79 問

わたし だ おおさかさやまし とんだばやしし かわちながのし
 私たちが出すゴミは、大阪狭山市、富田林市、河内長野市、
 かなんちょう たいしちょう ちはやあかさかむら しちょうそん みなみかわちかんきょう
 河南町、太子町、千早赤坂村の6つの市町村が南河内環境
 じぎょうくみあい せいそうこうじょう しより
 事業組合をつくり、2つの清掃工場で処理しています。その
 とんだばやしし
 1つは富田林市にあります。もう1つはどこにあります
 か？



- A ○ おおさかさやまし 大阪狭山市 B ○ かわちながのし 河内長野市
 C ○ かなんちょう 河南町 D ○ ちはやあかさかむら 千早赤坂村

第 80 問

わたし にようしより みなみかわちかんきょうじぎょう
 私たちのし尿処理は、南河内環境事業
 くみあい しげんさいせい
 組合の資源再生センターでおこなって
 しげんさいせい
 います。この資源再生センターは、どこにあ
 りますか？



- A ○ おおさかさやまし 大阪狭山市 B ○ かわちながのし 河内長野市
 C ○ かなんちょう 河南町 D ○ たいしちょう 太子町



第81問

おおさかさやましりつとしょかん なんとつ
大阪狭山市立図書館には、何冊ほど、
ほん
本がありますか？

- A ○ 約3000冊
- B ○ 約30000冊
- C ○ 約230000冊
- D ○ 約530000冊



第82問


さやまはんほうじょうし かもん み うろこ こうしょう
狭山藩北条氏の家紋の「三つ鱗」を校章にしている
がっこう
学校は、どこですか？

- A ○ 大阪狭山市立東小学校
- B ○ 大阪狭山市立西小学校
- C ○ 大阪狭山市立北小学校
- D ○ 大阪狭山市立狭山中学校



第83問

おおさかさやましりつがっこうきゅうしょくセンター
 大阪狭山市立学校給食センター
 では、一日に実施する給食の数は、
 小学校、中学校あわせて、どれほどですか？



- A ○ 約300食
- B ○ 約1300食
- C ○ 約3300食
- D ○ 約5300食

第84問

げんざい おおさかさやまし こうばん
 現在、大阪狭山市には、交番はいくつ
 ありますか？



- A ○ 半田、狭山南の2つ
- B ○ 東野、茱萸木、狭山南の3つ
- C ○ 池尻、半田、茱萸木、狭山南の4つ
- D ○ 東野、池尻、半田、茱萸木、狭山南の5つ

第85問

おおさかさやまし^{ない}、ひょうこう^{かいすいめん} たか^{たか}が、もっとも高いところと、もっとも低いところは、それぞれおよそ何m（メートル）ですか？

- A ○ 高いところ約100m、低いところ約55m
 B ○ 高いところ約165m、低いところ約55m
 C ○ 高いところ約265m、低いところ約155m
 D ○ 高いところ約365m、低いところ約255m



第86問

おおさかさやまし^{ゆうこうとし}の友好都市は、和歌山県日高がわちよう^{まち} ですが、この町の初湯川（旧美山村）には、和歌山県一の規模を誇るダムがあります。このダムの名前は何かですか？

- A ○ 美山ダム
 B ○ 滝畑ダム
 C ○ 樺山ダム
 D ○ 黒部ダム



第87問

おおさから かいさい こくさいはな みどり はくらんかい
 大阪府で開催された国際花と緑の博覧会(1990
 ねん きねん おおさから おおさからない しぜんめいしよ
 年)を記念して、大阪府は、大阪府内の自然名所
 100 か所(大阪みどりの百選)を、ふみん府民による
 とうひょう えら おおさかさやましな い えら
 投票で選びました。大阪狭山市内で選ばれたの
 は、さやまいけ狭山池とひともう一つはどこですか?



- A ○ さやまじんじや狭山神社 B ○ とうきやま陶器山
 C ○ さん と じんじや三都神社 D ○ くみの き はちまんじんじや茱萸木八幡神社

第88問

さやまいけ狭山池は、せい き はじ7世紀初めには葉のついた枝を敷き詰め
 てはつち も土を盛る「敷葉工法」を使ってつか築造されまし
 た。ちゅうごくあんきしやう中国安徽省のあんほうとう安豊塘やかんこくキムジエシ韓国金堤市のビヨッコルチェ碧骨堤
 などもどうよう同様のこうほう工法がつか使われています。次のうち
 で、ふるいじゆん古い順になっているのは、どれですか?



- A ○ さやまいけ狭山池 — ビヨッコルチェ碧骨堤 — あんほうとう安豊塘
 B ○ ビヨッコルチェ碧骨堤 — あんほうとう安豊塘 — さやまいけ狭山池
 C ○ あんほうとう安豊塘 — さやまいけ狭山池 — ビヨッコルチェ碧骨堤
 D ○ あんほうとう安豊塘 — ビヨッコルチェ碧骨堤 — さやまいけ狭山池



第89問

さやまはん だいつづ した はんしゅ なまえ じゅん なら
 狭山藩は12代続きました。下に藩主の名前を順に並べま
 したが、2代目と5代目の名前が抜けています。これらに
 はい ただ く あ
 入る正しい組み合わせはどれですか？

- ① 氏盛、② (?)、③ 氏宗、④ 氏治、⑤ (?)、
 ⑥ 氏貞、⑦ 氏彦、⑧ 氏昉、⑨ 氏壽、⑩ 氏久、
 ⑪ 氏燕、⑫ 氏恭



- A ○ ② 氏綱、⑤ 氏朝 B ○ ② 氏朝、⑤ 氏直
 C ○ ② 氏信、⑤ 氏朝 D ○ ② 氏規、⑤ 氏康

第90問

おおさかさやまし がつ まつ
 大阪狭山市では、10月にだんじり祭りが
 せいだい みやい
 盛大におこなわれます。宮入りしたあと、
 しない あき ふうぶつし
 市内をパレードするのは秋の風物詩にな
 っています。さて、狭山神社に宮入りする
 のは、どこのだんじりですか？



- A ○ 浦之庄、前田、山伏、山本、隠
 B ○ 大野、今熊、岩室、山伏、山本
 C ○ 茱萸木北、茱萸木南、狭山、川向、池之原
 D ○ 前田、浦之庄、東村、川向、狭山



第91問

げんざい おおさかさやまし すいどうすい き
現在、大阪狭山市の水道水は、どこから来ていますか？

- A ○ たいまいけ 太満池からくみ上げ、たいまいけじょうすいじょう 太満池浄水場で浄化
きれいに (きれいに) みず おおさかさやま した水を大阪狭山市内に送っている。
- B ○ たいまいけじょうすいじょう 太満池浄水場で浄化した水と、みず おおさか 大阪府から送られて
じょうか くる浄化した水を半分ずつま 混ぜて市内に送っている。
- C ○ さやまいけ 狭山池の水を、ひがしの 東野のじょうポンプ場で浄化してからし市内に送っている。
- D ○ おおさかこういきすいどうきぎょうだん 大阪広域水道企業団が、びわこ 琵琶湖やよどかわ 淀川の水を浄化して、市内に送っている。



第92問

おおのにし さかいし かわちながのし おおさかさやま
大野西の、堺市・河内長野市・大阪狭山
し きょうかい 市の境界のところ、あまのかいどう 天野街道沿いに、
ふる 古くからこたから 子宝にめぐ 恵まれることでし知ら
れているおじそ地蔵さんがまつられてい
ます。このおじそ地蔵さんのなまえ 名前は何です
か？



- A ○ うしたきじそ 牛瀧地蔵 B ○ あなじそ 穴地蔵
- C ○ ごんべえじそ 権兵衛地蔵 D ○ おためじそ おため地蔵



第93問

こっかいぎいん しゅうぎいん ていすう にん さんぎいん にん
 国会議員は、衆議院の定数が475人、参議院が242人です。
 おおさかふぎかい ぎいん ていすう にん おおさかさやましぎかいぎいん
 大阪府議会の議員の定数は88人です。大阪狭山市議会議員
 ていすう なんにん
 の定数は何人ですか？

- A ○ 9人 B ○ 11人
 C ○ 13人 D ○ 15人



第94問

みぎ おおさかさやましやくしょ みなみ さやまだい こうえん
 右は大阪狭山市役所の南にある狭山第2公園です。
 おどろ ちい こうえん しな いけじりだい こうえん
 驚くほど小さな公園ですが、市内には池尻第8公園
 にしやまだいだい こうえん がいくこうえん
 とか西山台第11公園など、いくつかの街区公園が
 りょくどう ふく おおさかさやまし
 あります。緑道も含め、大阪狭山市にはこのような
 がいくこうえん
 街区公園が、およそいくつありますか？

- A ○ 20ほど
 B ○ 40ほど
 C ○ 60ほど
 D ○ 80ほど



第95問

USJ (ユニバーサル・スタジオ・ジャパン) の
 ひろさは約39ha (ヘクタール、1ha=100m×100m
 =1万㎡) です。狭山池の面積と比べたとき、ど
 れが正しいですか？



- A ○ 狭山池もUSJも39haだから、同じだ。
 B ○ 狭山池は20haなので、USJの約半分だ。
 C ○ 狭山池は36haなので、USJより少しだけ狭い。
 D ○ 狭山池は78haなので、USJより2倍広い。

第96問

大阪狭山市に伝わる伝説です。「江戸時代に、三
 都神社の近くに金蔵寺という寺があったが、明治
 のはじめ、寺はとりこわされ、山門にあった仁王
 はよその寺に移されることになった。寺から天野
 街道に続く急な坂道を上りはじめると、仁王は
 『行くのはいやだ』と泣いた。」さて、それ以来、
 その坂道を何と呼ぶようになりましたか？



- A ○ 仁王坂
 B ○ 泣き坂
 C ○ 涙坂
 D ○ いや坂

第97問


さやまいけ みず む 狭山池の水を抜いたとき、ほくせい かど ちい ほんら 北西の角の小さな祠の
 まえ 前に、まるい あな み みる ことができます。ふる もんじょ 古い文書に
 は、あんせい ねん (1858) の さやまいけかいしゅう 改修のときに、あな
 の なか 中に如意宝龍王を、ほんら 祠の りゅうおうしゃ 竜王社には ぜんによ
 だいらゅうおう 大龍王をまつったと書かれています。このまるい
 あな 穴は、何と呼ばれていますか？



- A ○ りゅうじんぶち 龍神淵 B ○ りゅうおうけつ 龍王穴
 C ○ へびあな 蛇穴 D ○ りゅうが いけ 竜ヶ池

第98問

おおさか 府立狭山池博物館へ 入館
 して、まず おどろ 驚かされるのは、いけ 池
 の きたつつみ きょだい 断面の 展示で
 す。これだけ大きな物が屋内に
 展示されているのは世界的に
 も 珍しいといわれています。
 さて、この断面の大きさは、ど
 れほどですか？



- A ○ たか 高さ 10.4m、そこはば 底幅42m B ○ たか 高さ 12.4m、そこはば 底幅55m
 C ○ たか 高さ 15.4m、そこはば 底幅62m D ○ たか 高さ 17.4m、そこはば 底幅75m

第99問

ほうれき ねん (1760)、さやまはん いえそどう
 宝暦10年(1760)、狭山藩のお家騒動
 お が起きました。おだわらほうじょう つづ かしん
 が起きました。小田原北条から続く家臣
 たちと、あたら とうよう かしん
 たちと、新しく登用された家臣たちと
 しんきゅうこうたい はいけい
 の、新旧交代が背景にありました。その
 ありさま か しょもつ
 有様を書いた書物はどれですか？



- A ○ さやまはんじつせいき 狭山藩実政記
 B ○ さんりんじつせいき 三鱗実政記
 C ○ こかちゅうじゆんせきちよう 御家中順席帳
 D ○ ほうじょううじともこうにつき 北条氏朝公日記

第100問

ちく みなみ
 茱萸木地区には、南から草沢・茱萸木・亀ノ甲とい
 しゅうらく かんじ
 う集落があります。これらの集落名は、その漢字
 よ むす し
 を読むのが難しいことで、よく知られています。正
 よ かた
 しい読み方は、どれですか？

- A ○ くささわ・ぐみのき・かめのこうら
 B ○ くさざわ・くみのき・かめのこ
 C ○ くささ・くみのき・かめのこう
 D ○ くささわ・ぐみのき、かめのこ

